



4けたの数 I

● 千のまとまり

2

日にち： 月 日

名まえ _____

・ ビーズは何こありますか。□ に数を書きましょう。


(うすい字はなぞりましょう。)

1000が こ

100が こ

10が こ

1が こ



は ● が 100こだよ！

100が10こで1000になるね！



ビーズは

2			
---	--	--	--

こ





4けたの数 1

● 千のまとまり


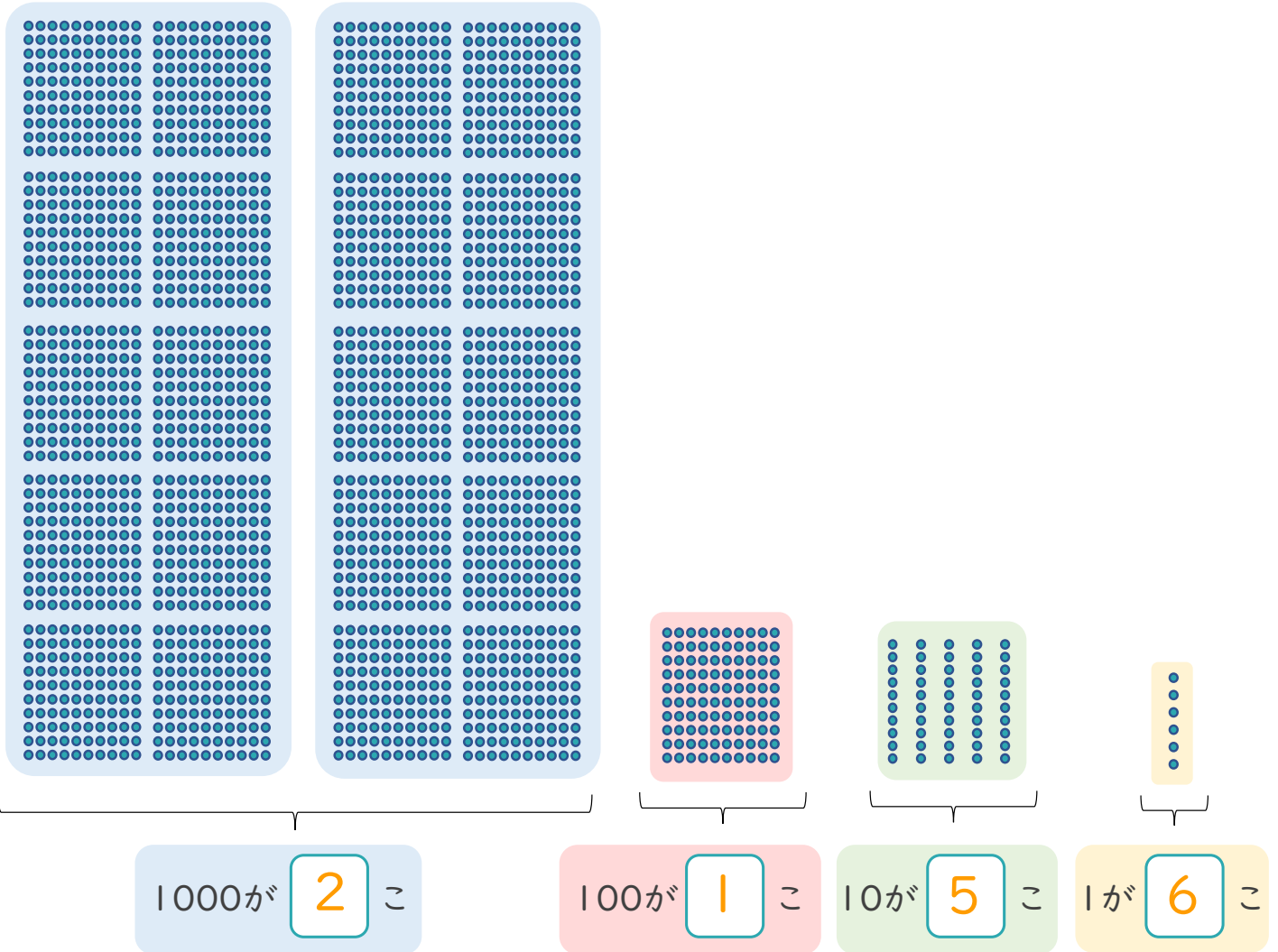


日にち： 月 日

名まえ _____

・ ビーズは何こありますか。□ に数を書きましょう。

(うすい字はなぞりましょう。)



は ● が 100こだよ！

100が10こで1000になるね！



ビーズは

2	1	5	6
---	---	---	---

こ

