



### 分数5

● 同じ長さに分けた  
テープの1つ分の長さ



日にち：            月            日


名まえ \_\_\_\_\_

・ つぎのもんだいに答えましょう。(うすい字はなぞりましょう。)

① 同じ長さになるように、テープを5つに分けました。

分けた1つ分の長さは、もとの長さの何分の一ですか。

もとの長さ




答え：

            
 $\frac{1}{5}$

② 同じ長さになるように、テープを3つに分けました。

分けた1つ分の長さは、もとの長さの何分の一ですか。

もとの長さ



答え：

\_\_\_\_\_





### 分数5

● 同じ長さに分けた  
テープの1つ分の長さ



日にち：            月            日

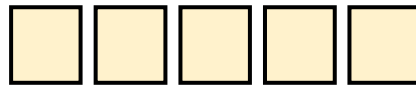
名まえ \_\_\_\_\_

・ つぎのもんだいに答えましょう。(うすい字はなぞりましょう。)

① 同じ長さになるように、テープを5つに分けました。

分けた1つ分の長さは、もとの長さの何分の一ですか。

もとの長さ



答え：

$$\frac{1}{5}$$

② 同じ長さになるように、テープを3つに分けました。

分けた1つ分の長さは、もとの長さの何分の一ですか。

もとの長さ



答え：

$$\frac{1}{3}$$

