



3けたの数 2

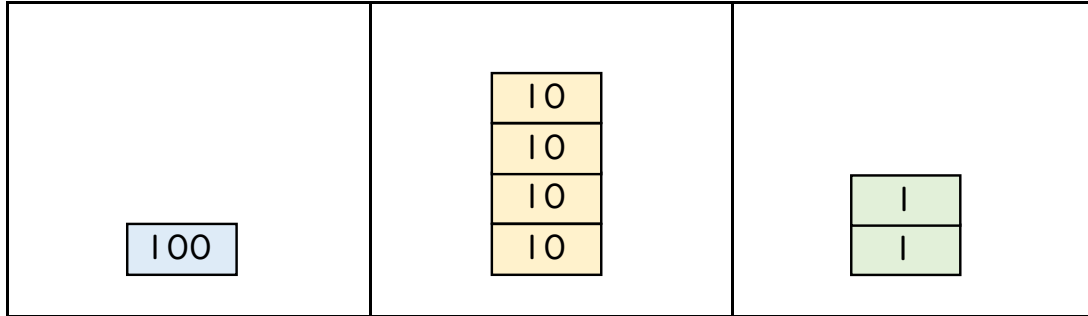
◎ 大きな数をかん字と数字であらわそう (0がない)



日にち： 月 日

名まえ _____

1 百四十二を数字で書きましょう。(うすい字はなぞりましょう。)



百のくらい	十のくらい	一のくらい
1	4	2

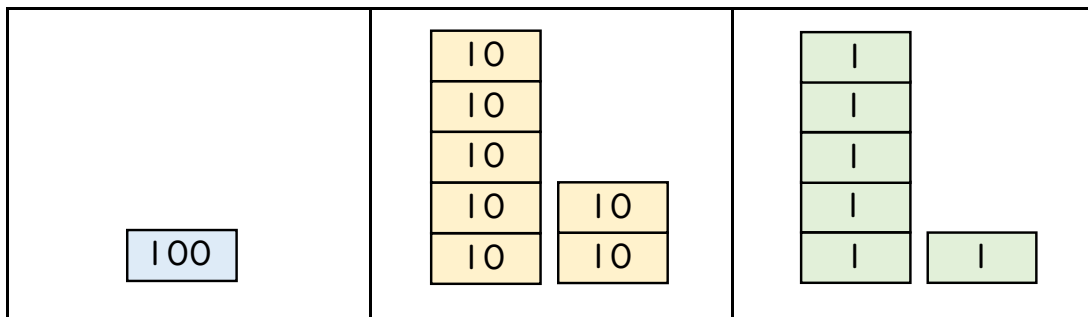
読み方は
ひゃくよんじゅうに だよ!

142



()

2 176を漢字で書きましょう。(うすい字はなぞりましょう。)



百のくらい	十のくらい	一のくらい
1		

(百)



3けたの数 2

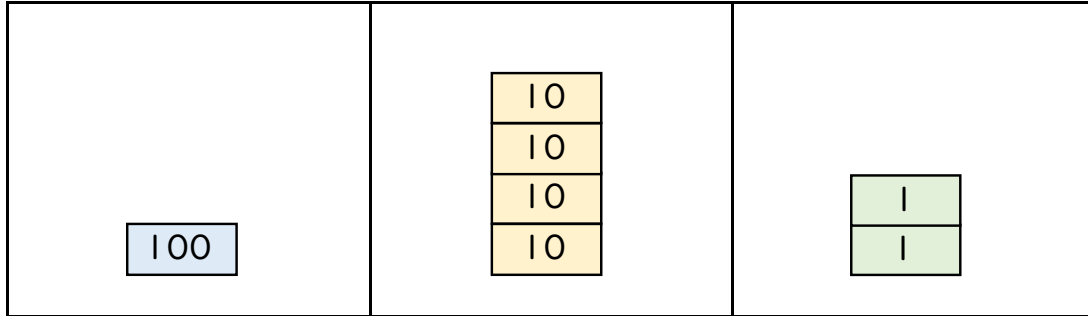
◎ 大きな数をかん字と数字であらわそう (0がない)



日にち： 月 日

名まえ _____

1 百四十二を数字で書きましょう。(うすい字はなぞりましょう。)



百のくらい	十のくらい	一のくらい
1	4	2

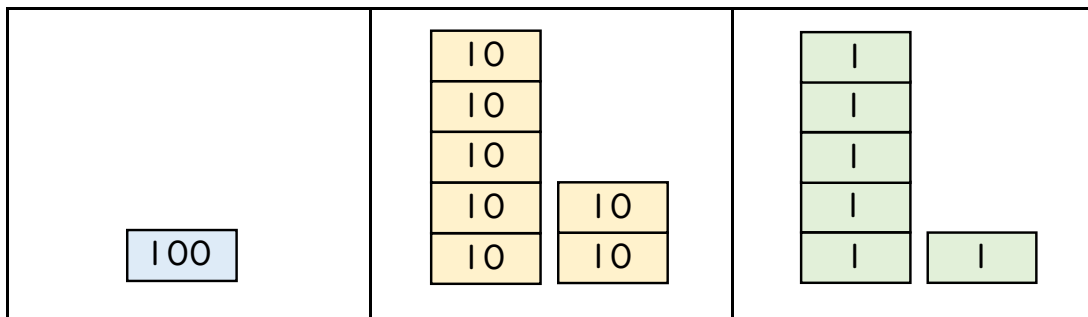
読み方は
ひゃくよんじゅうに だよ!

142



142

2 176を漢字で書きましょう。(うすい字はなぞりましょう。)



百のくらい	十のくらい	一のくらい
1	7	6

百七十六

