



図を使って
考えよう 3

● 帰った人は何人？



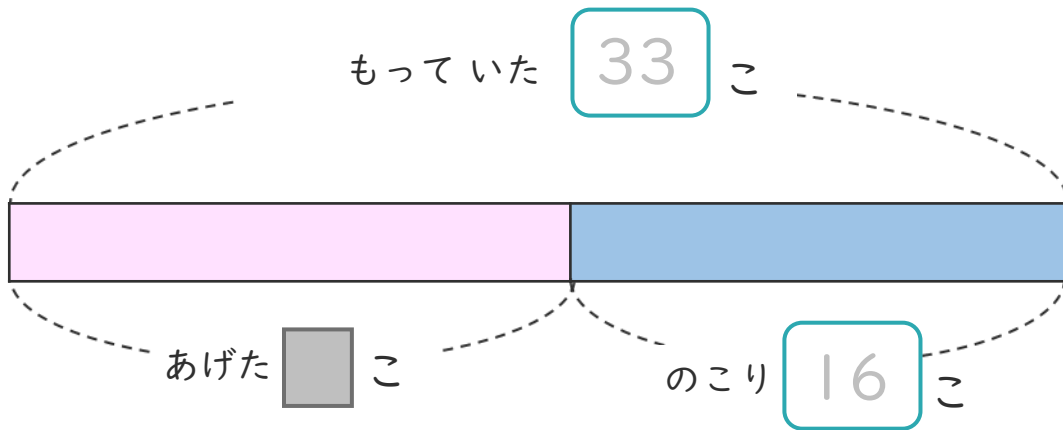
日にち： 月 日

名まえ _____

・ あめを 33こ もっていました。

友だちに 何こか あげたので、のこりは 16こ になりました。
(うすい字はなぞりましょう。)

① 下の図の □ にあう 数を書きましょう。




② 友だちには、何こ あげましたか。

しきと 答えを書きましょう。

しき $\left(33 - \quad = \quad \right)$

答え $\left(\quad \right)$

<筆算スペース>





図を使って
考えよう 3

● 帰った人は何人？



日にち： 月 日

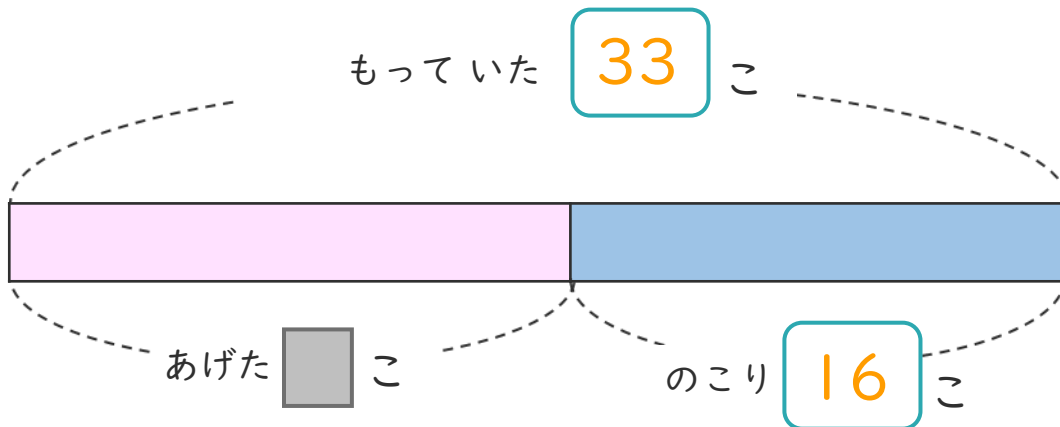
名まえ _____

・ あめを 33こ もっていました。

友だちに 何こか あげたので、のこりは 16こ になりました。

(うすい字はなぞりましょう。)

① 下の図の □ にあう 数を書きましょう。



② 友だちには、何こ あげましたか。

しきと 答えを書きましょう。

しき $(33 - 16 = 17)$

答え $(17こ)$

<筆算スペース>

