



## 4けたの数 12

● 数の線のめもりが表す数



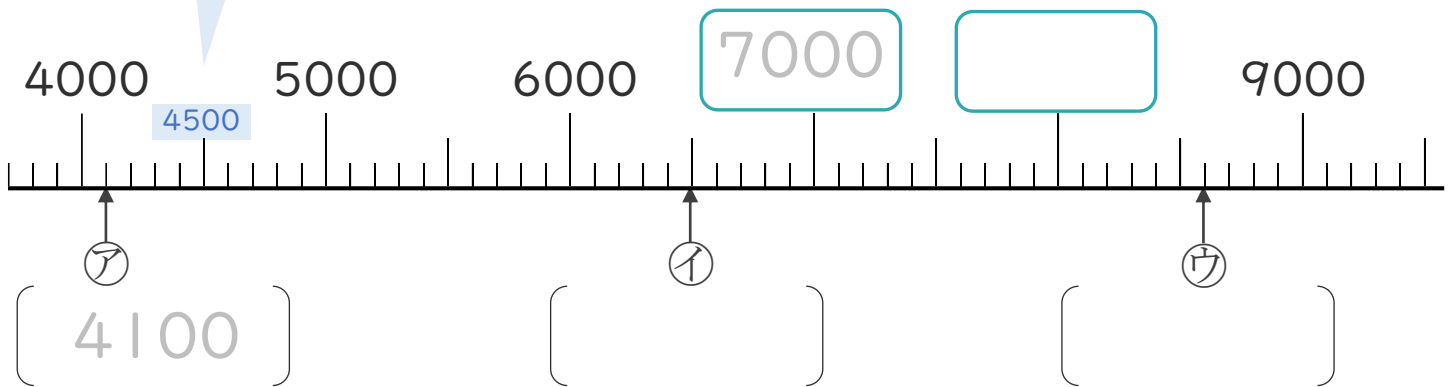
日にち：            月            日

名まえ \_\_\_\_\_

1 下の数の線を見て答えましょう。(うすい字はなぞりましょう。)

☆いちばん小さい1めもりはいくつ？

4000と5000の間が10こに分かれているから、  
いちばん小さい1めもりは  だね！



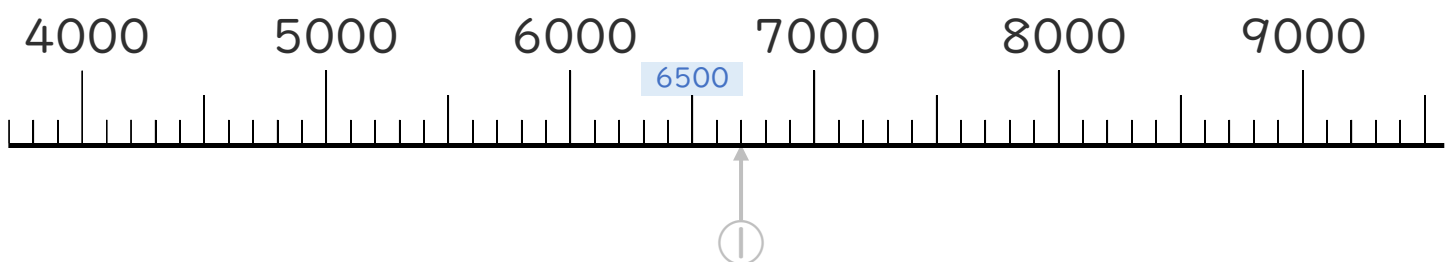
① 上の数の線の  にあてはまる数を書きましょう。

② ア、イ、ウのめもりが表している数を [            ] に書きましょう。

2 次の数を表すめもりに、↑を書きましょう。

(うすい字はなぞりましょう。)

① 6700    ② 8500





## 4けたの数 12

● 数の線のめもりが表す数



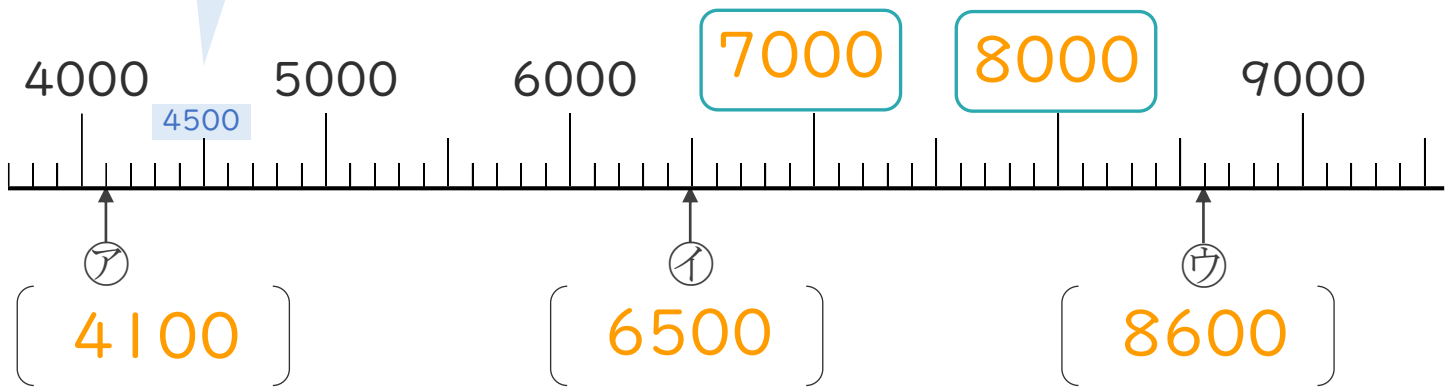
日にち：            月            日

名まえ \_\_\_\_\_

1 下の数の線を見て答えましょう。(うすい字はなぞりましょう。)

☆いちばん小さい1めもりはいくつ？

4000と5000の間が10こに分かれているから、  
いちばん小さい1めもりは **100** だね！



① 上の数の線の  にあてはまる数を書きましょう。

② ①、②、③のめもりが表している数を [     ] に書きましょう。

2 次の数を表すめもりに、↑を書きましょう。

(うすい字はなぞりましょう。)

① 6700    ② 8500

