



4けたの数 11

◎ 数百のたし算・ひき算




日にち： 月 日


名まえ _____

・ たし算をしましょう。(うすい字はなぞりましょう。)

① $500 + 600 = 1100$

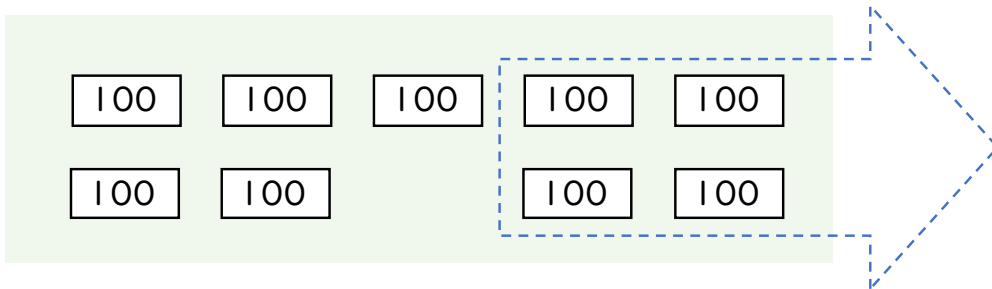


② $300 + 900 =$

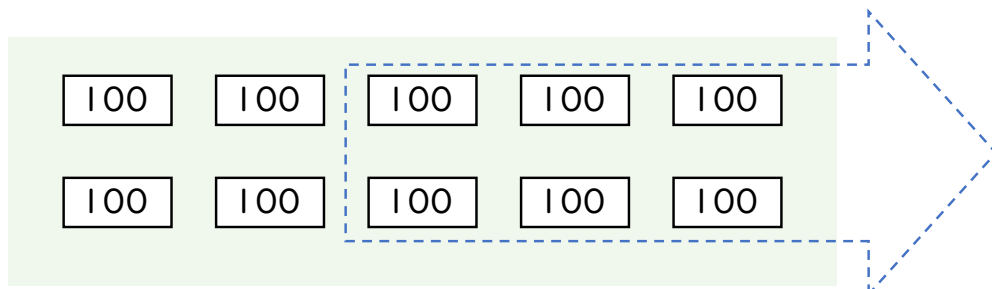


・ ひき算をしましょう。(うすい字はなぞりましょう。)

① $900 - 400 = 500$



② $1000 - 600 =$





4けたの数 11

◎ 数百のたし算・ひき算




日にち： 月 日


名まえ _____

・ たし算をしましょう。(うすい字はなぞりましょう。)

① $500 + 600 = 1100$

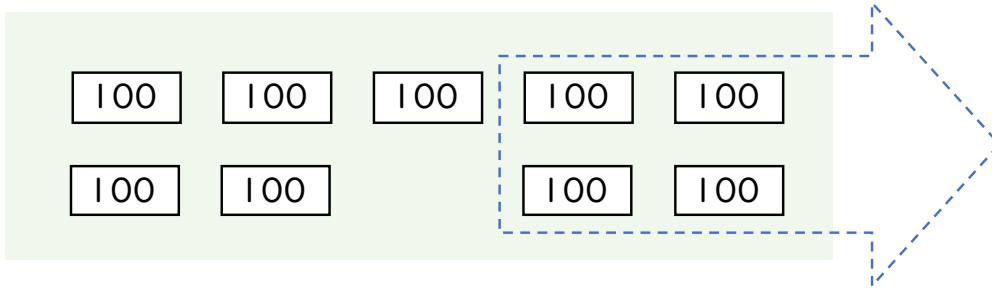


② $300 + 900 = 1200$



・ ひき算をしましょう。(うすい字はなぞりましょう。)

① $900 - 400 = 500$



② $1000 - 600 = 400$

