



4けたの数 〇〇

◎ 数百のたし算・ひき算

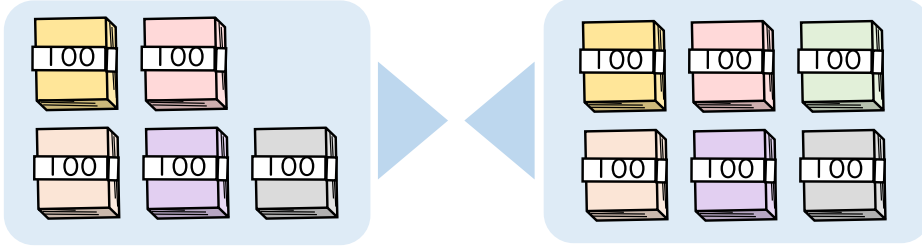


日にち： 月 日

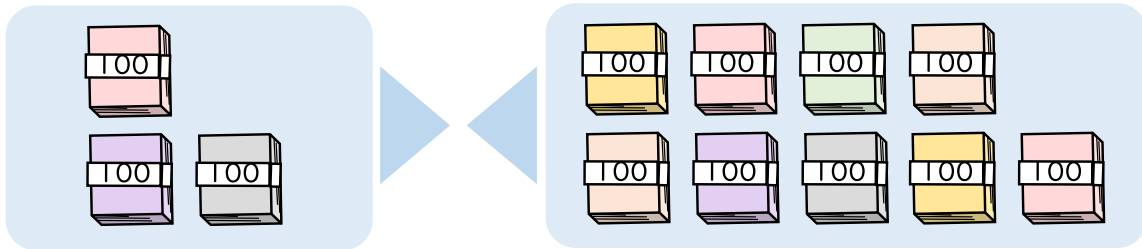
名まえ _____

・ たし算をしましょう。(うすい字はなぞりましょう。)

① $500 + 600 = 1100$

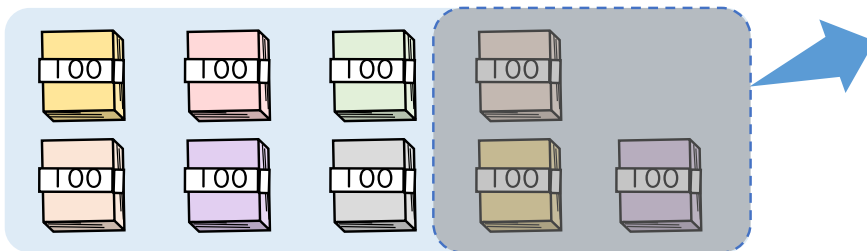


② $300 + 900 =$

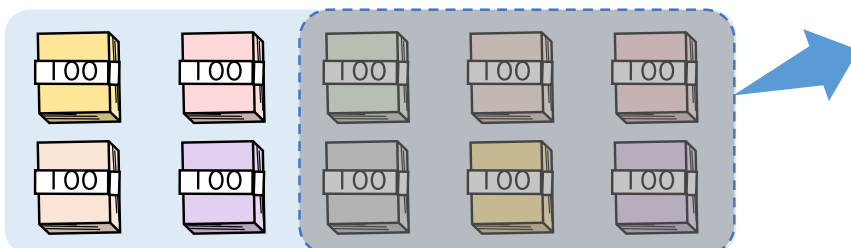


・ ひき算をしましょう。

① $900 - 300 =$



② $1000 - 600 =$





4けたの数 00

● 数百のたし算・ひき算

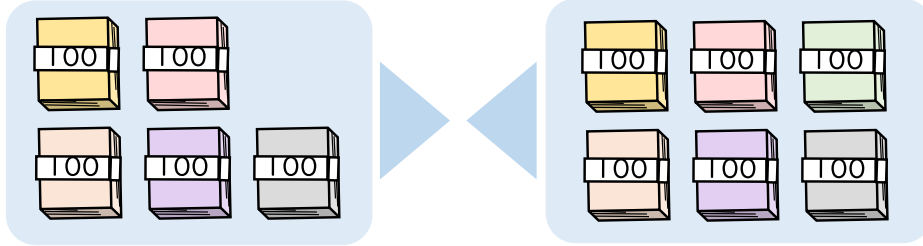


日にち： 月 日

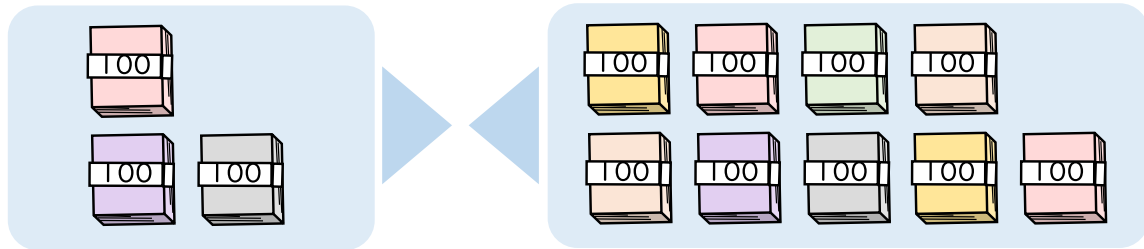
名まえ _____

・ たし算をしましょう。(うすい字はなぞりましょう。)

① $500 + 600 = 1100$

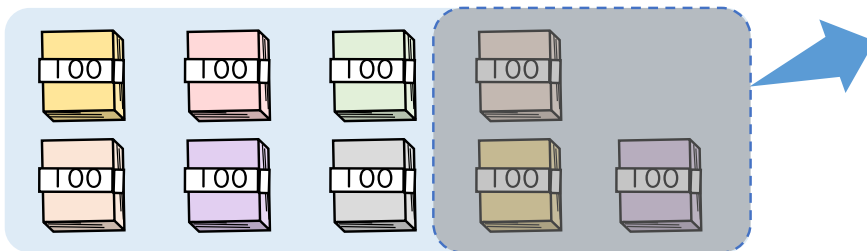


② $300 + 900 = 1200$



・ ひき算をしましょう。

① $900 - 300 = 600$



② $1000 - 600 = 400$

