



長方形と正方形 9

◎ 長方形かな？正方形かな？

2


日にち： 月 日

名まえ _____

1 つぎの三角形や四角形の名前をいみましょう。

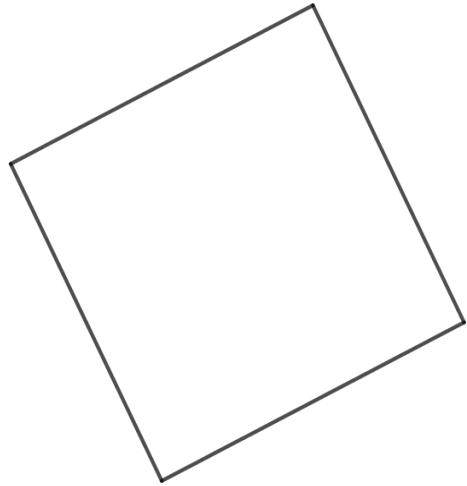
(うすい字はしっかりなぞりましょう。)

①



(直角三角形)

②



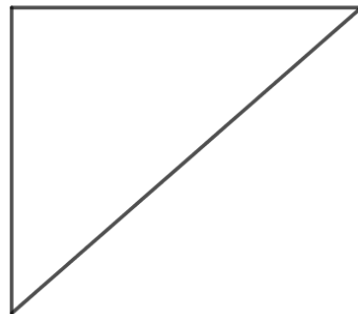
()

③



()

④



()



長方形と正方形 9

◎ 長方形かな？正方形かな？


2

日にち： 月 日

名まえ _____

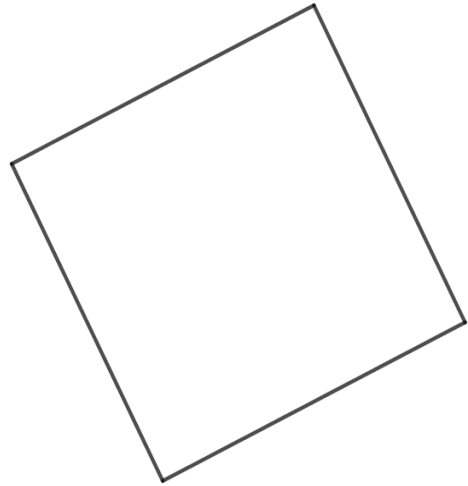
1 つぎの三角形や四角形の名前をいみましょう。
(うすい字はしっかりなぞりましょう。)

①



(直角三角形)

②



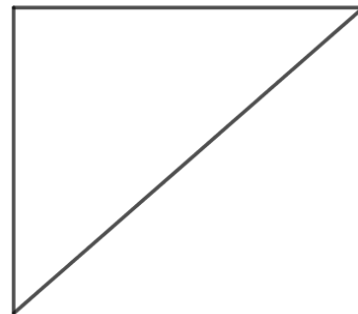
(正方形)

③



(長方形)

④



(直角三角形)