



長さのたんい 13

● きまった長さの
直線をひく




日にち： 月 日


名まえ _____

・ |----- から つぎの ^{なが}長さの ^{ちよくせん}直線を ひきましょう。(うすい^{せん}線は なぞりましょう。)

① 6 cm



② 3 cm



③ 4 cm 7 mm



④ 8 5 mm





長さのたんい 13

● きまった長さの
直線をひく



日にち： 月 日


名まえ _____

・ |----- から つぎの ^{なが}長さの ^{ちよくせん}直線を ひきましょう。(うすい^{せん}線は なぞりましょう。)

① 6 cm



② 3 cm



③ 4 cm 7 mm



④ 8 5 mm

