



たし算と
ひき算のひっ算6

百のくらいからくり下がりがり
(図でかんがえる)

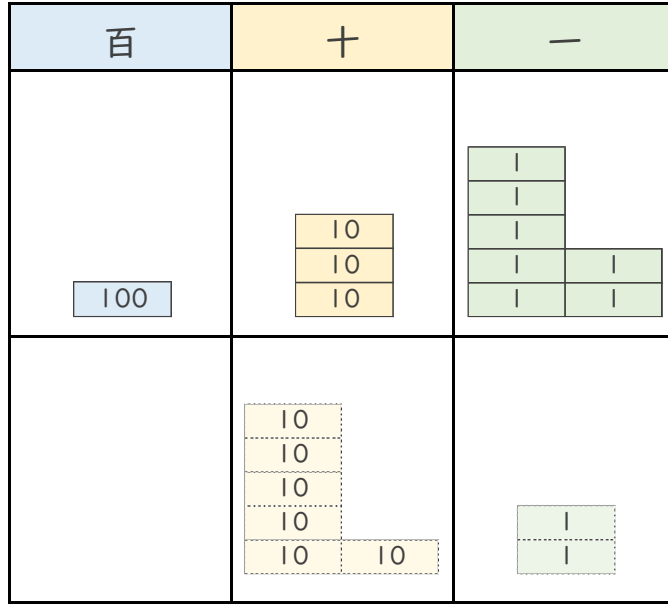


日にち： 月 日

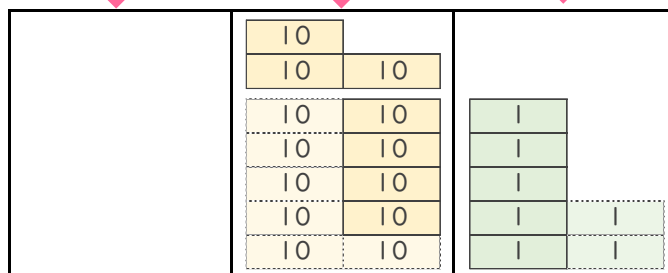
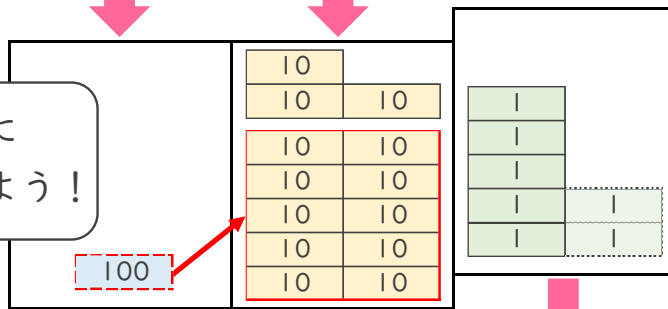
名まえ

- メダルを、ぜんぶで137こ 作りました。
62こ くばると、のこりは 何こですか。 (うすい字はなぞりましょう。)

しき： $137 - 62 = 75$



十のくらいに
1くり下げよう！



答え：





たし算と
ひき算のひっ算6

百のくらいからくり下がりが
(図でかんがえる)

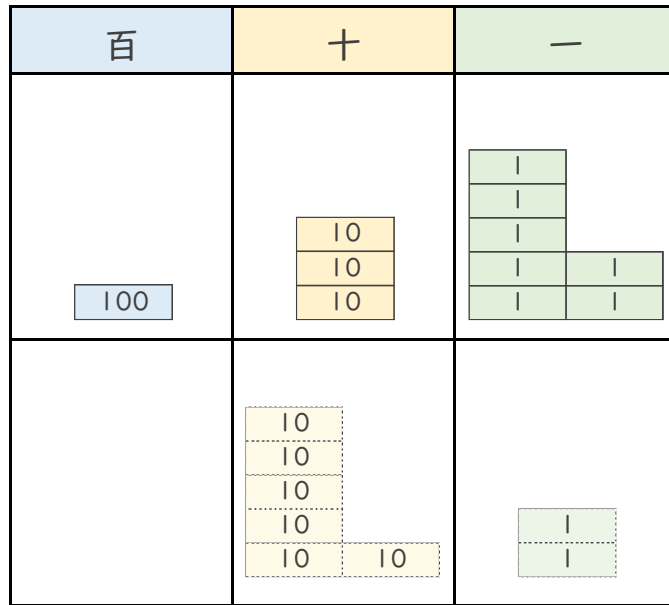


日にち： 月 日

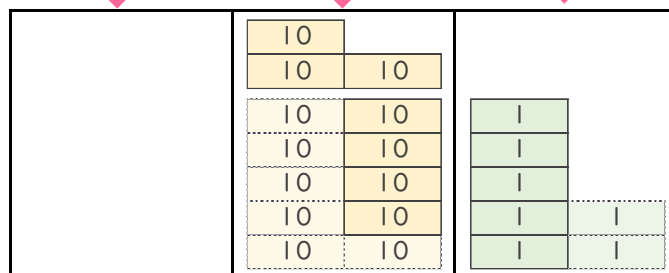
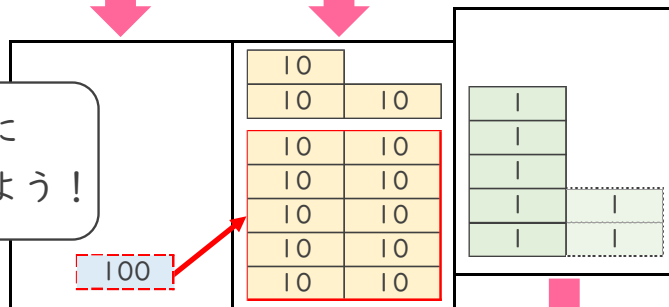
名まえ

- メダルを、ぜんぶで137こ 作りました。
62こ くばると、のこりは 何こですか。 (うすい字はなぞりましょう。)

しき： $137 - 62 = 75$



十のくらいに
1くり下げよう！



答え： 75こ

