



たし算と
ひき算のひっ算 6

● 百のくらいからくり下がりがり
(図でかんがえる)



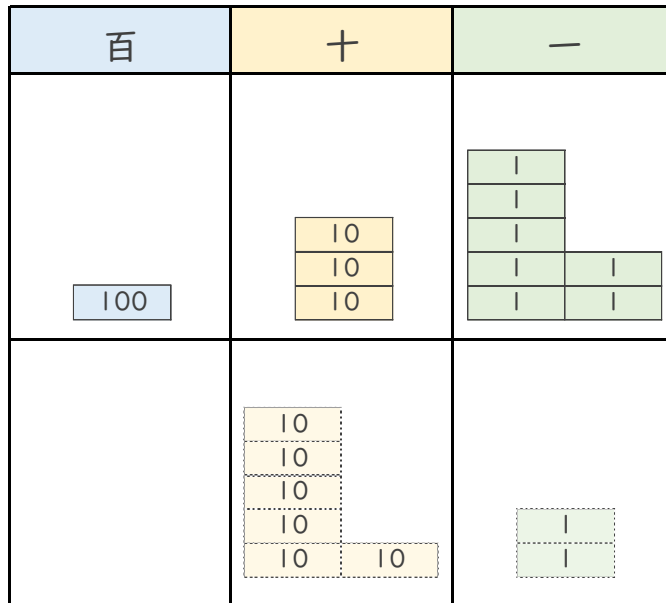
日にち： 月 日

名まえ _____

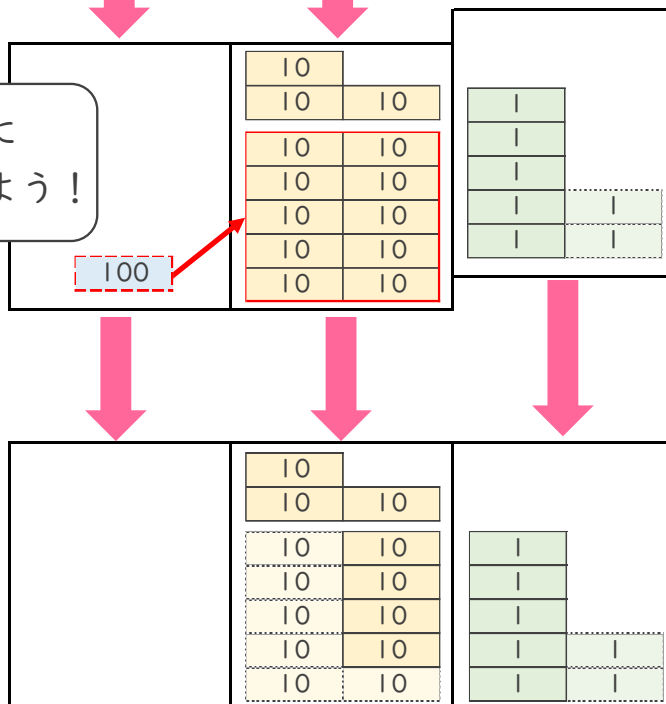
・ メダルを、ぜんぶで 137こ 作りました。

62こ くばると、のこりは 何こですか。(うすい字は なぞりましょう。)

しき： $137 - 62 = 75$



十のくらいに
1くり下げよう！



答え： _____





たし算と
ひき算のひっ算 6

● 百のくらいからくり下がりがり
(図でかんがえる)



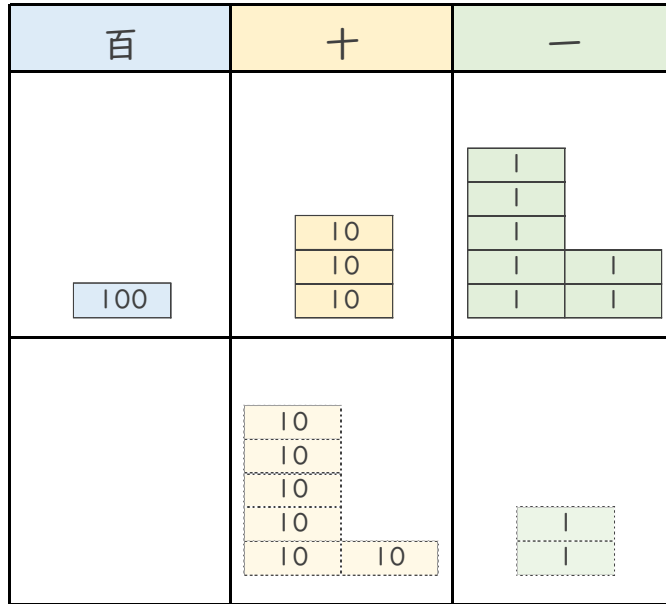
日にち： 月 日

名まえ _____

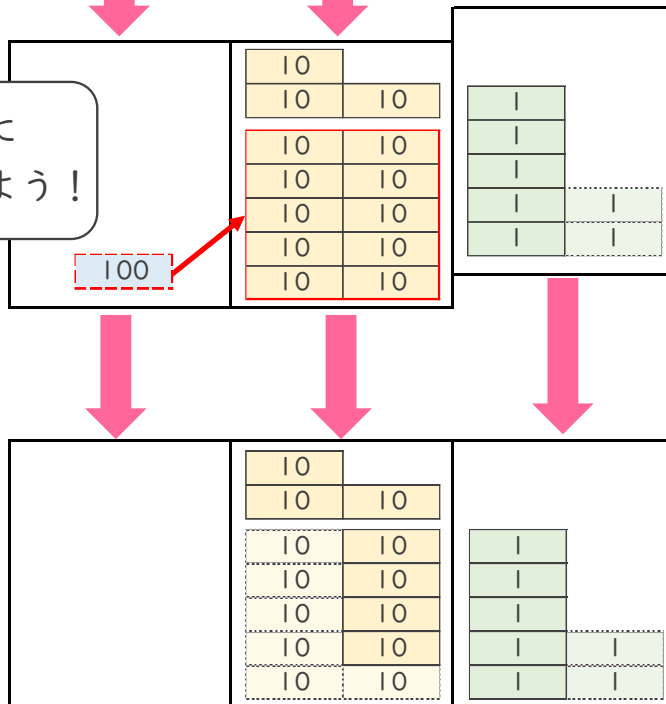
・ メダルを、ぜんぶで 137こ 作りました。

62こ くばると、のこりは 何こですか。(うすい字は なぞりましょう。)

しき： $137 - 62 = 75$



十のくらいに
1くり下げよう！



答え： 75こ

