



# 3けたの数 13

◎ 百のたばのたし算・ひき算

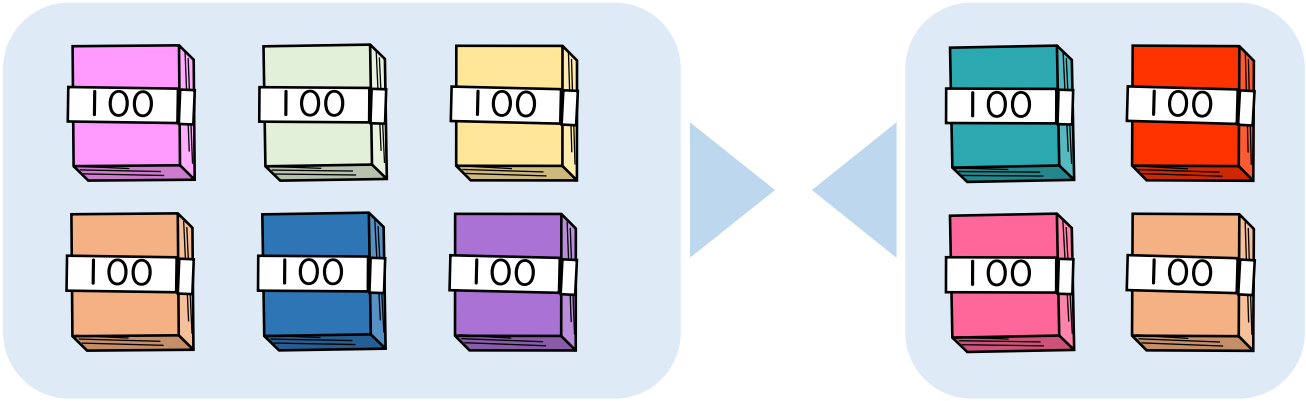


日にち： 月 日

名まえ \_\_\_\_\_

- 600+400の答えはいくつですか。

(うすい字はなぞりましょう。)

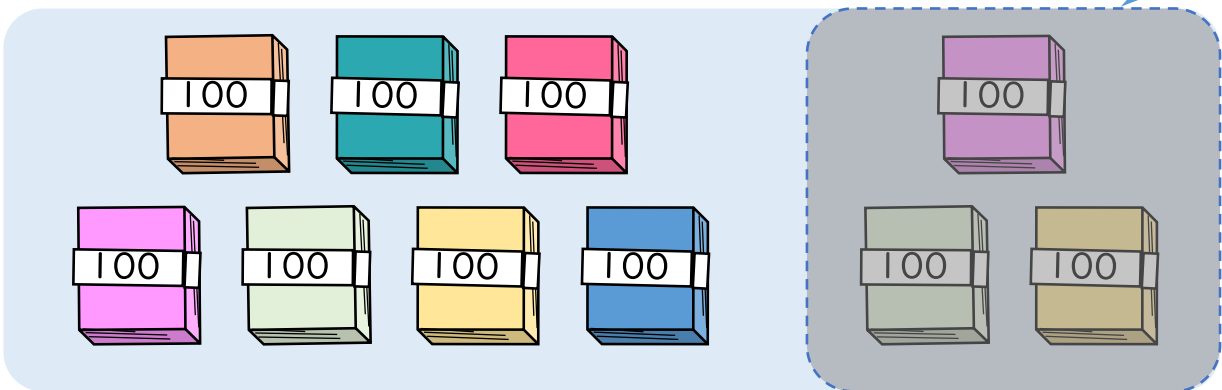


100のたばが  +  =  で  こだから

$$600 + 400 = \text{1000}$$

- 1000-300の答えはいくつですか。

(うすい字はなぞりましょう。)



100のたばが  -  =  で  こだから

$$1000 - 300 = \text{700}$$





# 3けたの数 13

◎ 百のたばのたし算・ひき算

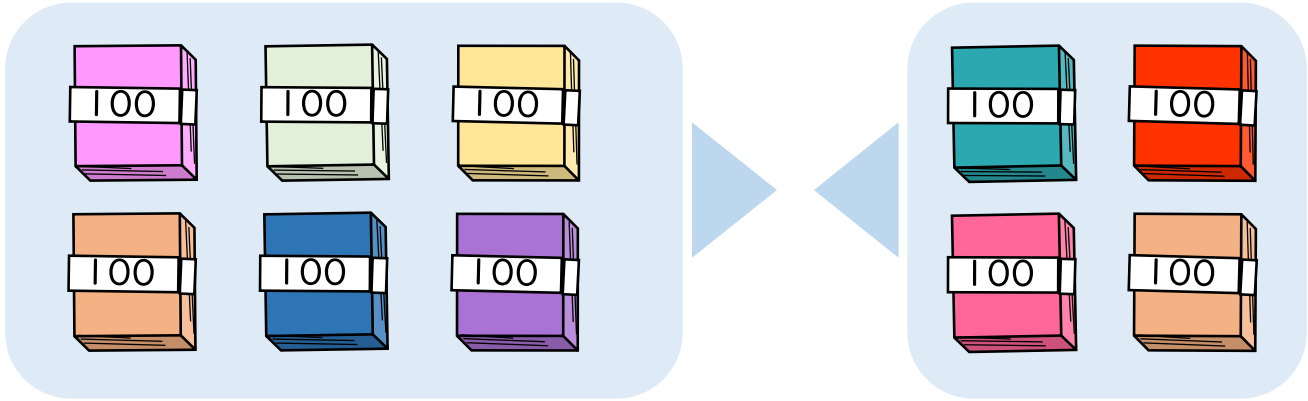


日にち： 月 日

名まえ \_\_\_\_\_

- 600+400の答えはいくつですか。

(うすい字はなぞりましょう。)

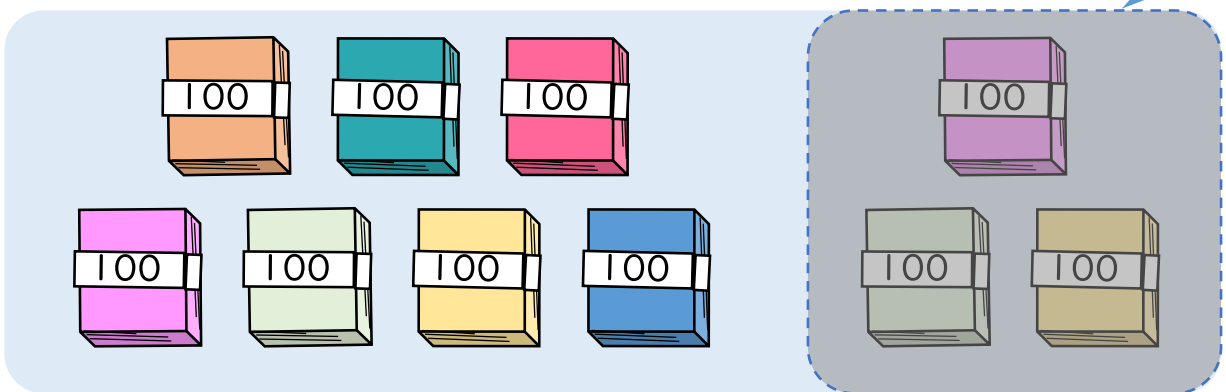


100のたばが  $6 + 4 = 10$  で  $10$  こだから

$$600 + 400 = 1000$$

- 1000-300の答えはいくつですか。

(うすい字はなぞりましょう。)



100のたばが  $10 - 3 = 7$  で  $7$  こだから

$$1000 - 300 = 700$$

