



長方形と正方形 3

2

◎ 直角三角形を見つけよう

日にち： 月 日

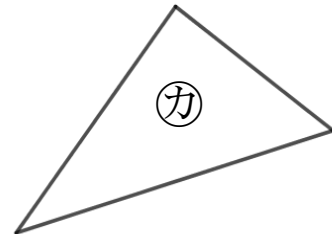
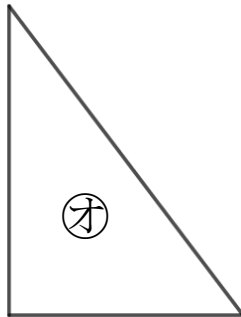
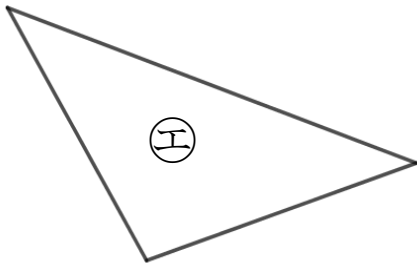
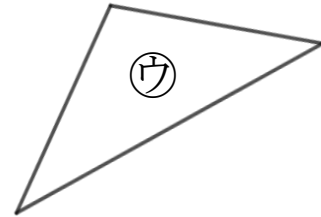
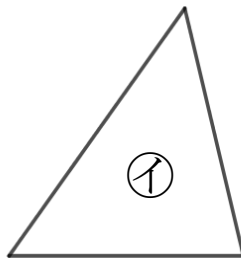
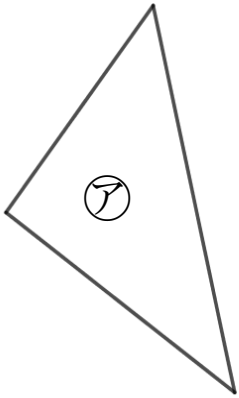
名まえ _____

・ 直角三角形はどれですか。

三角じょうぎをつかって、ぜんぶ見つけましょう。

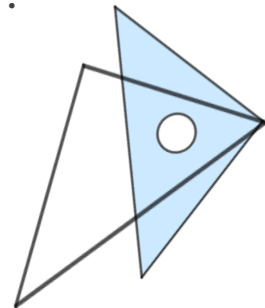
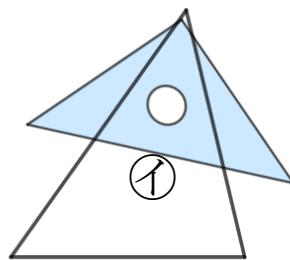
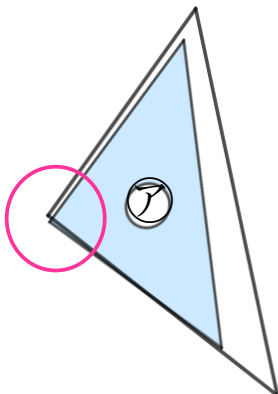
(うすい字はしっかりなぞりましょう。)

直角のかどがある三角形を といいます。



三角じょうぎの直角のかどをあててみよう！

ぴったりかさなるかどはあるかな？



答え： ,



長方形と正方形 3

2

◎ 直角三角形を見つけよう

日にち： 月 日

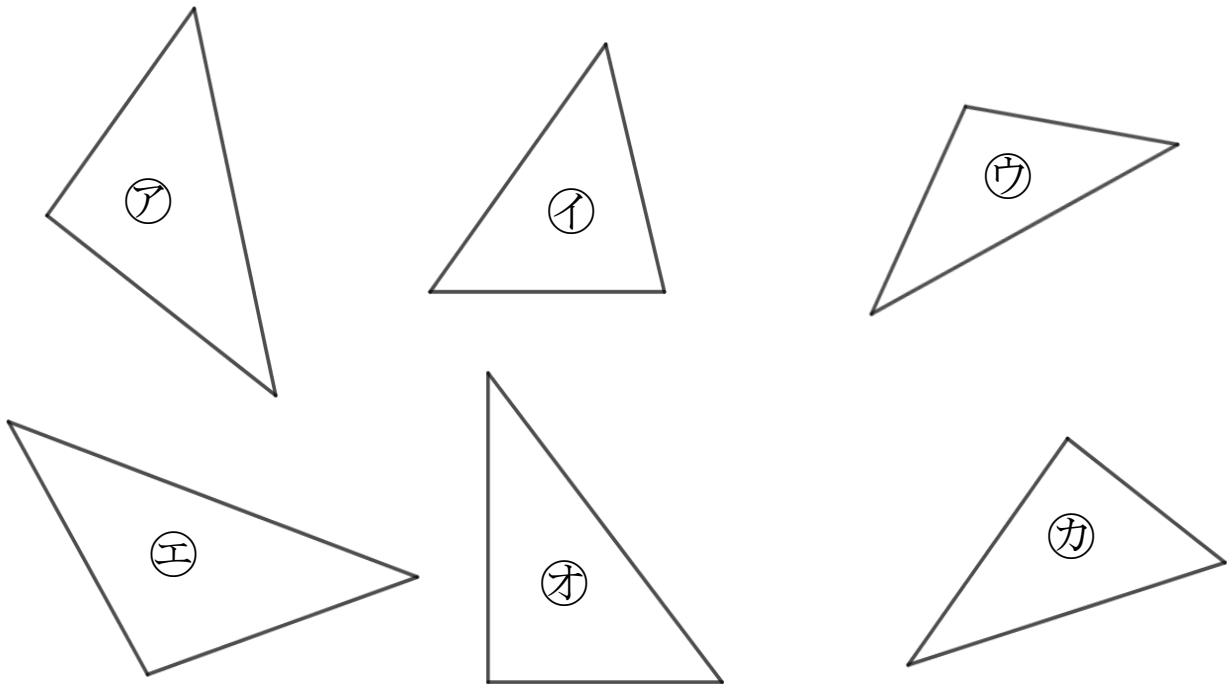
名まえ _____

・ 直角三角形はどれですか。

三角じょうぎをつかって、ぜんぶ見つけましょう。

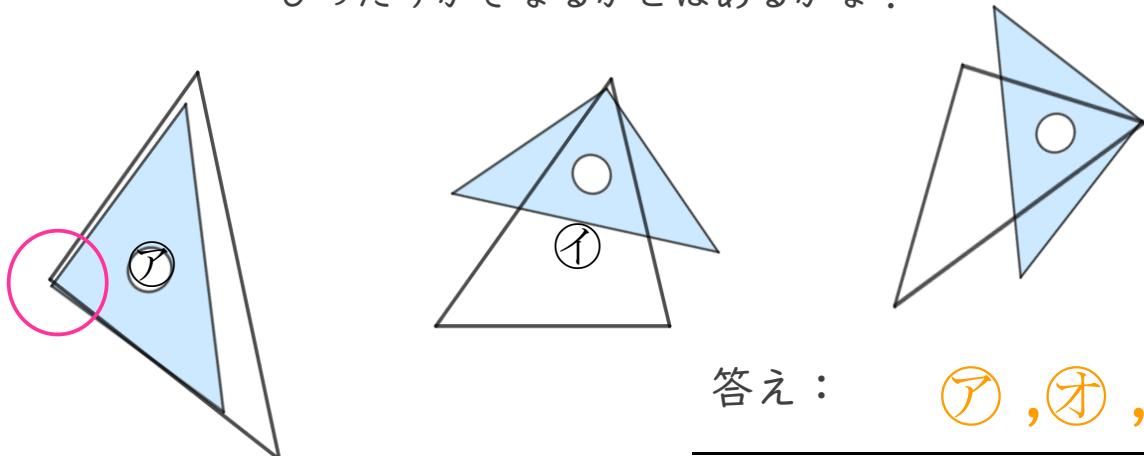
(うすい字はしっかりなぞりましょう。)

直角のかどがある三角形を **直角三角形** といいます。



三角じょうぎの直角のかどをあててみよう！

ぴったりかさなるかどはあるかな？



答え： **ア** , **オ** , **カ**