



長方形と正方形 3

2

◎ 直角三角形を見つけよう

日にち： 月 日

名まえ _____

・ 直角三角形はどれですか。

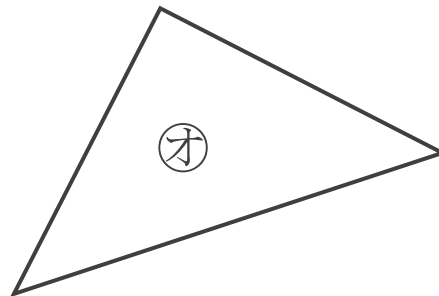
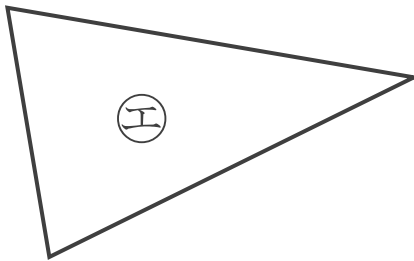
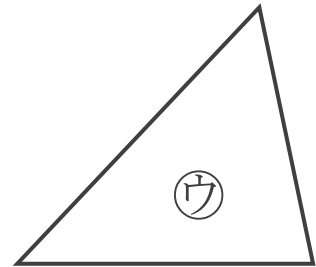
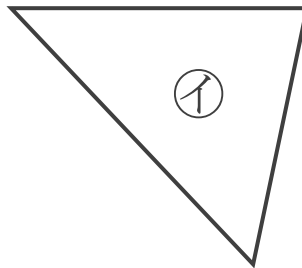
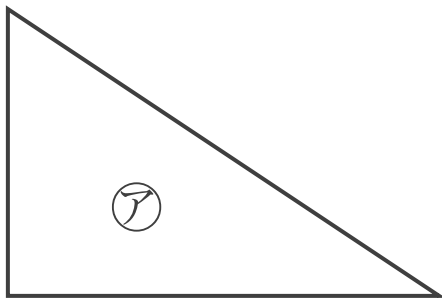
三角じょうぎをつかって、ぜんぶ見つけましょう。

(うすい字はなぞりましょう。)

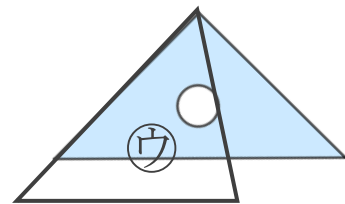
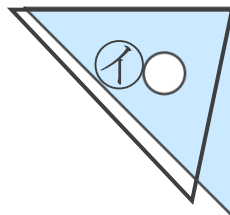
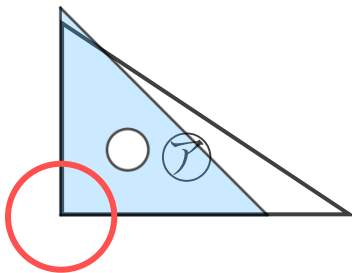
ちよっかくさんかくけい

直角のかどがある三角形を

といいます。



三角じょうぎの直角のかどをあててみよう
ぴったりかさなるかどはあるかな？



答え：

ア，





長方形と正方形 3

2

◎ 直角三角形をみつけよう

日にち： 月 日

名まえ _____

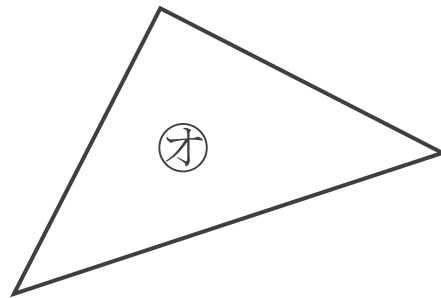
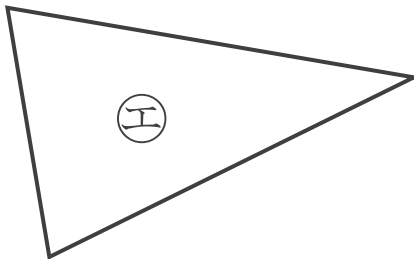
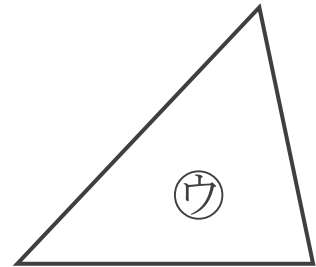
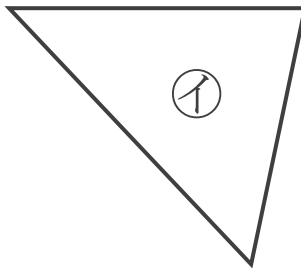
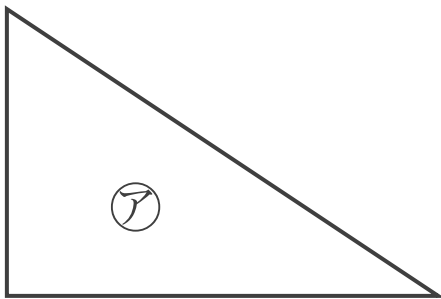
・ 直角三角形はどれですか。

三角じょうぎをつかって、ぜんぶ見つけましょう。

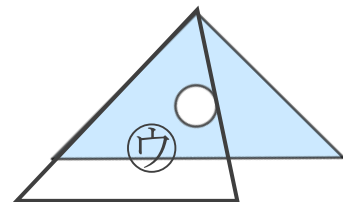
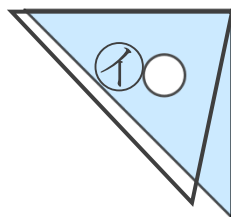
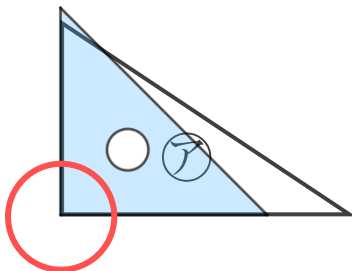
(うすい字はなぞりましょう。)

ちよっかくさんかくけい

直角のかどがある三角形を **直角三角形** といいます。



三角じょうぎの直角のかどをあててみよう
ぴったりかさなるかどはあるかな？



答え： **ア, オ**

