



はこの形 2

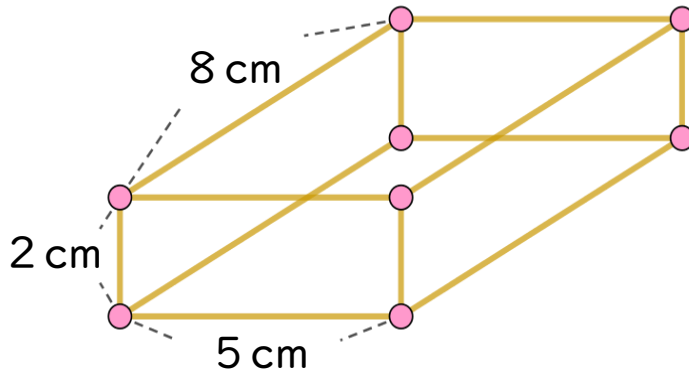
● 竹ひごと
粘土玉で作る箱の形



日にち： 月 日

名まえ _____

・ ひごとねん土玉をつかって、下のようないろいろな箱を作ります。



① 2 cmのひごはぜんぶで何本いらいますか。

答え： _____

② 5 cmのひごはぜんぶで何本いらいますか。


答え： _____

③ 8 cmのひごはぜんぶで何本いらいますか。

答え： _____

④ ねん土玉はぜんぶで何こいらいますか。

答え： _____



はこの形 2

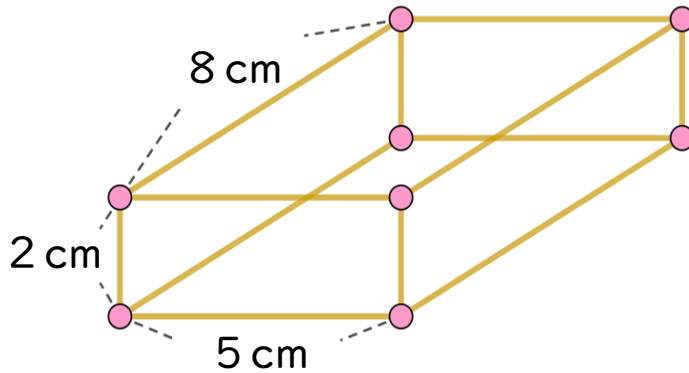
● 竹ひごと
粘土玉で作る箱の形



日にち： 月 日

名まえ _____

・ ひごとねん土玉をつかって、下のようないこの形を作ります。



① 2 cmのひごはぜんぶで何本いらいますか。

答え： 4本

② 5 cmのひごはぜんぶで何本いらいますか。

答え： 4本

③ 8 cmのひごはぜんぶで何本いらいますか。

答え： 4本

④ ねん土玉はぜんぶで何こいらいますか。

答え： 8つ

