



かけ算 2

◎ 絵を見てかけ算の
しきを作ろう






日にち： 月 日

名まえ _____

・ 絵を見て、かけ算のしきをつかって、ぜんぶでいくつか答えましょう。
(うすい字はなぞりましょう)


①



しき： $5 \times 3 = 15$

答え： 15本

②



しき： $6 \times 2 =$

答え： _____





かけ算 2

◎ 絵を見てかけ算の
しきを作ろう






日にち： 月 日

名まえ _____

- ・ 絵を見て、かけ算のしきをつかって、ぜんぶでいくつか答えましょう。
(うすい字はなぞりましょう)


①



しき： $5 \times 3 = 15$

答え： 15本

②



しき： $6 \times 2 = 12$

答え： 12こ

