



# 4けたの数 4

●色紙のまい数を  
数字であらわそう

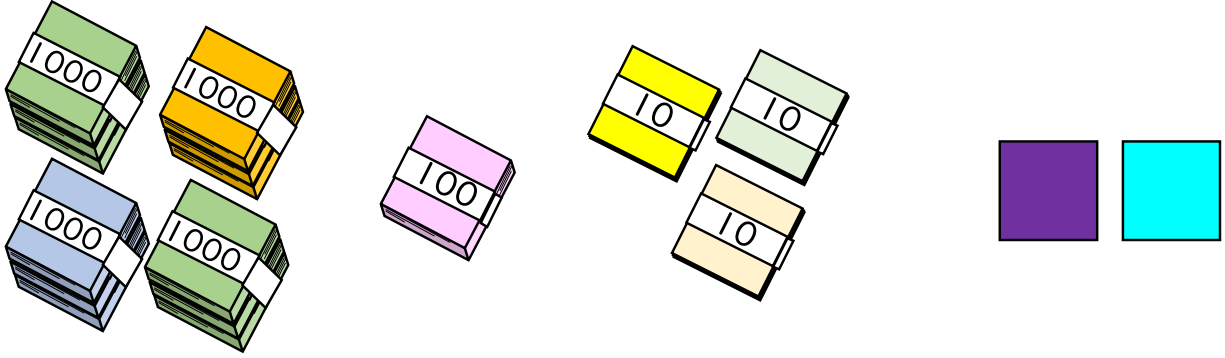


日にち： 月 日

名まえ \_\_\_\_\_

・色紙の数を 数字 で書きましょう。(うすい字はなぞりましょう。)

①



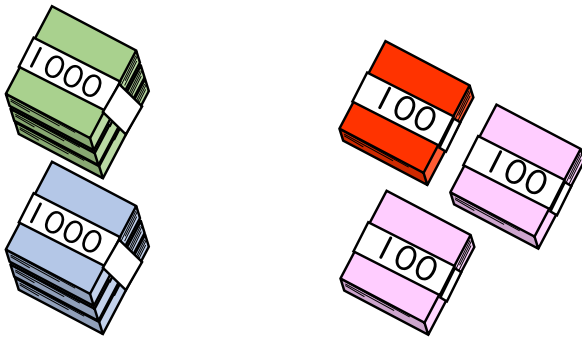
千	百	十	一
4	1	3	2

それぞれのたばの数を  
表に入れてみよう!



まい

②



千	百	十	一
2	3		

まい





# 4けたの数 4

● 色紙のまい数を  
数字であらわそう

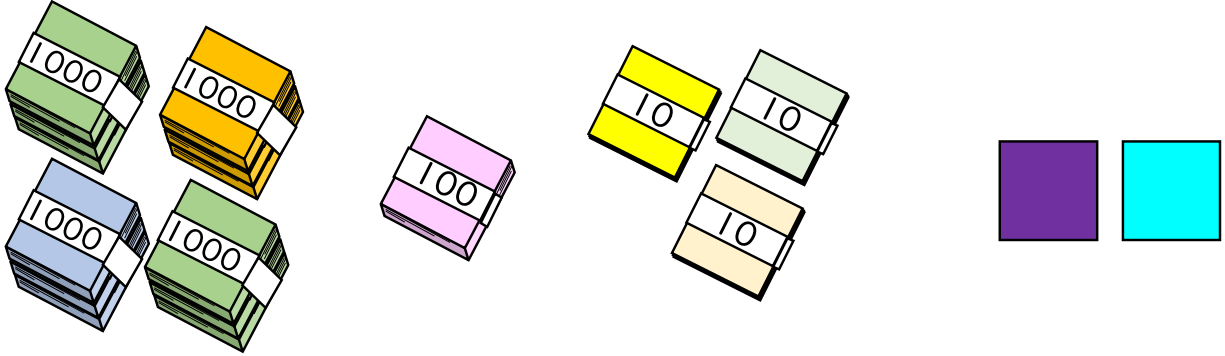


日にち： 月 日

名まえ \_\_\_\_\_

・ 色紙の 数 を 数字 で 書 き ま し ょ う 。 (うすい字はなぞりましょう。)

①



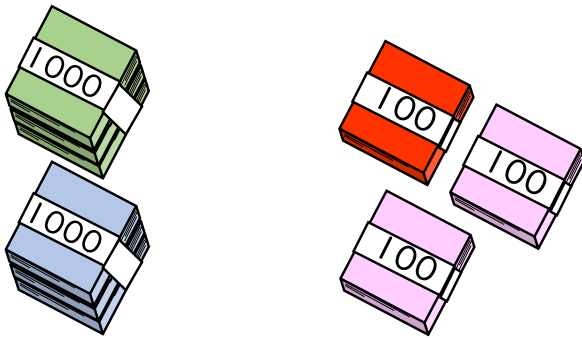
千	百	十	一
4	1	3	2

それぞれの たば の 数 を  
表 に 入 れ て み よ う !



4132 まい

②



千	百	十	一
2	3	0	0

2300 まい