



4けたの数 4

● 色紙のまい数を
数字であらわそう

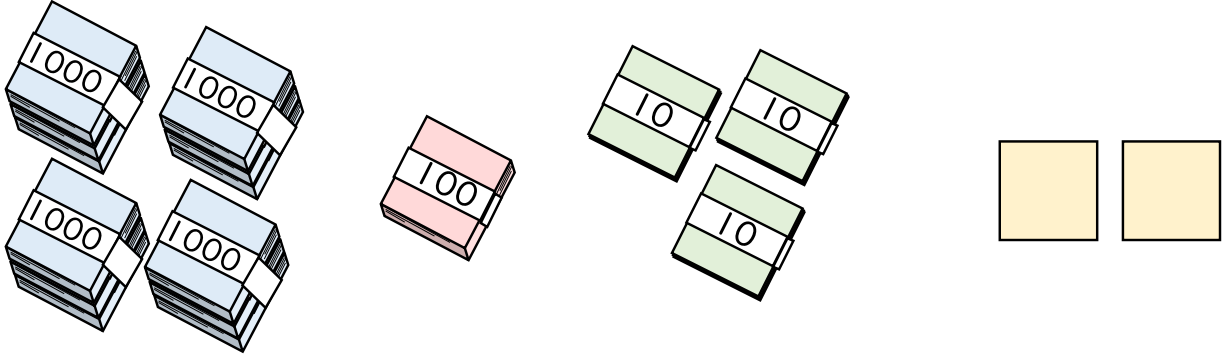


日にち： 月 日

名まえ _____

・ 色紙の数を 数字で書きましょう。(うすい字はなぞりましょう。)

①



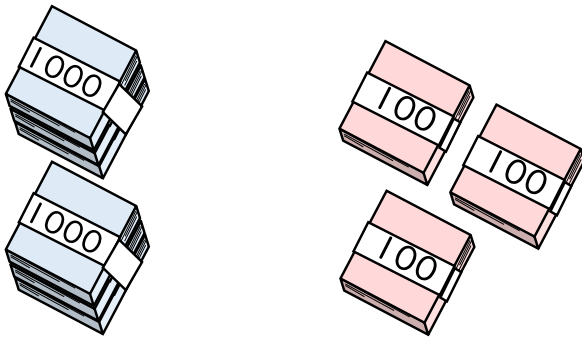
千	百	十	一
4	1	3	2

それぞれのたばの数を
表に入れてみよう!



まい

②



千	百	十	一
2	3		

まい





4けたの数 4

●色紙のまい数を
数字であらわそう

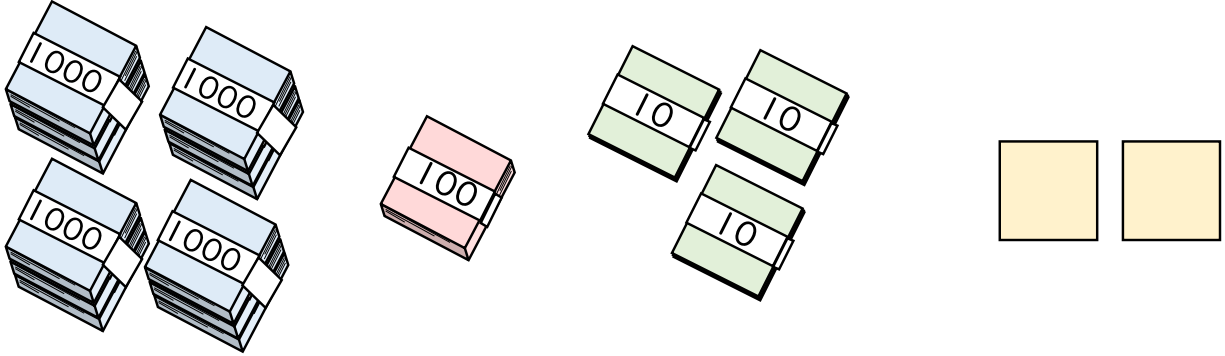


日にち： 月 日

名まえ _____

・色紙の数を 数字 で書きましょう。(うすい字はなぞりましょう。)

①



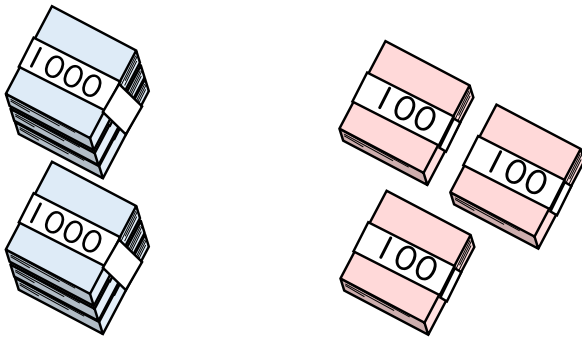
千	百	十	一
4	1	3	2

それぞれのたばの数を
表に入れてみよう!



4132 まい

②



千	百	十	一
2	3	0	0

2300 まい

② 確認 答え

