



長方形と正方形 4

2

● 長方形を見つけよう


日にち： 月 日

名まえ _____

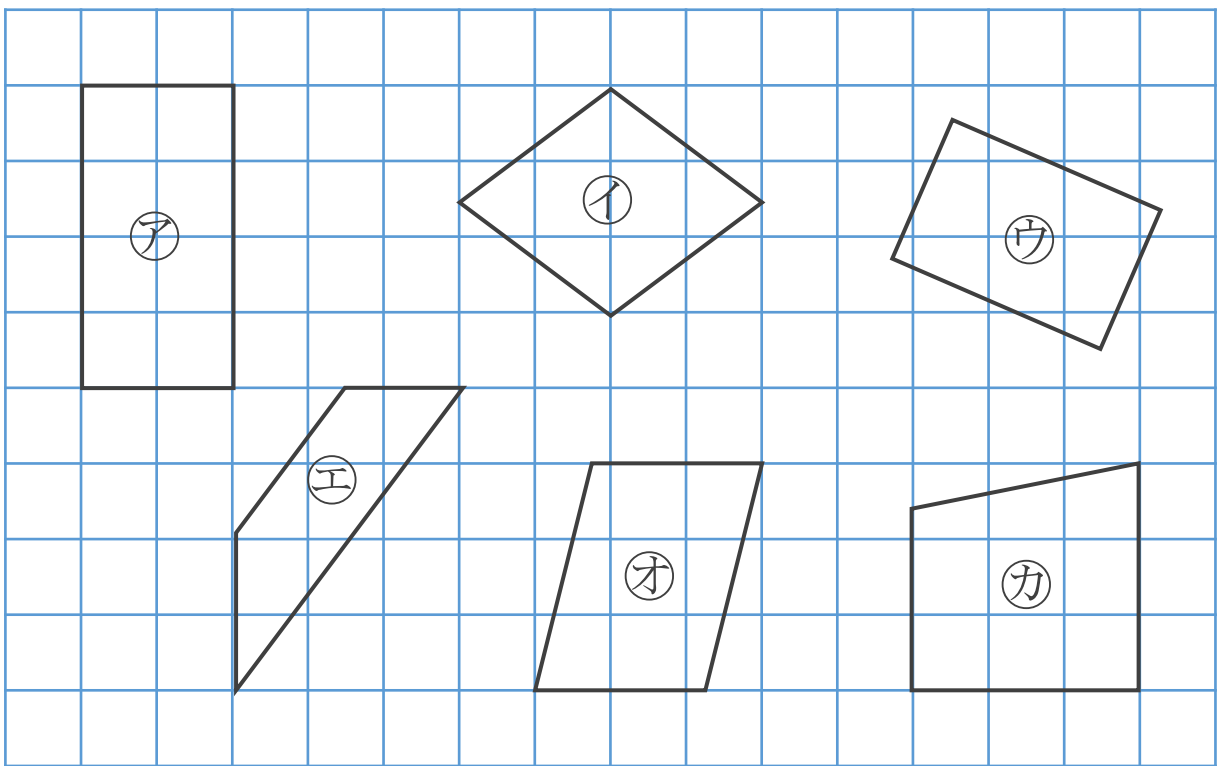
- ・ 長方形はどれですか。三角じょうぎをつかって、ぜんぶ見つけましょう。(うすい字はなぞりましょう。)

4つのかどがみんな直角になっている四角形を

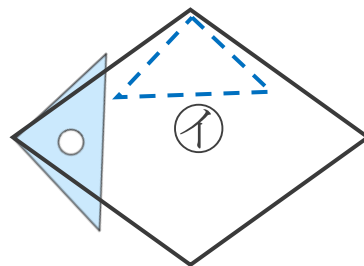
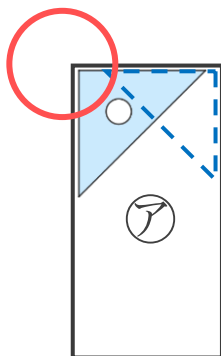
ちようほうけい



といいます。



三角じょうぎの直角のかどをあててみよう！



答え： ア,





長方形と正方形 4

2

◎ 長方形を見つけよう

日にち： 月 日

名まえ _____

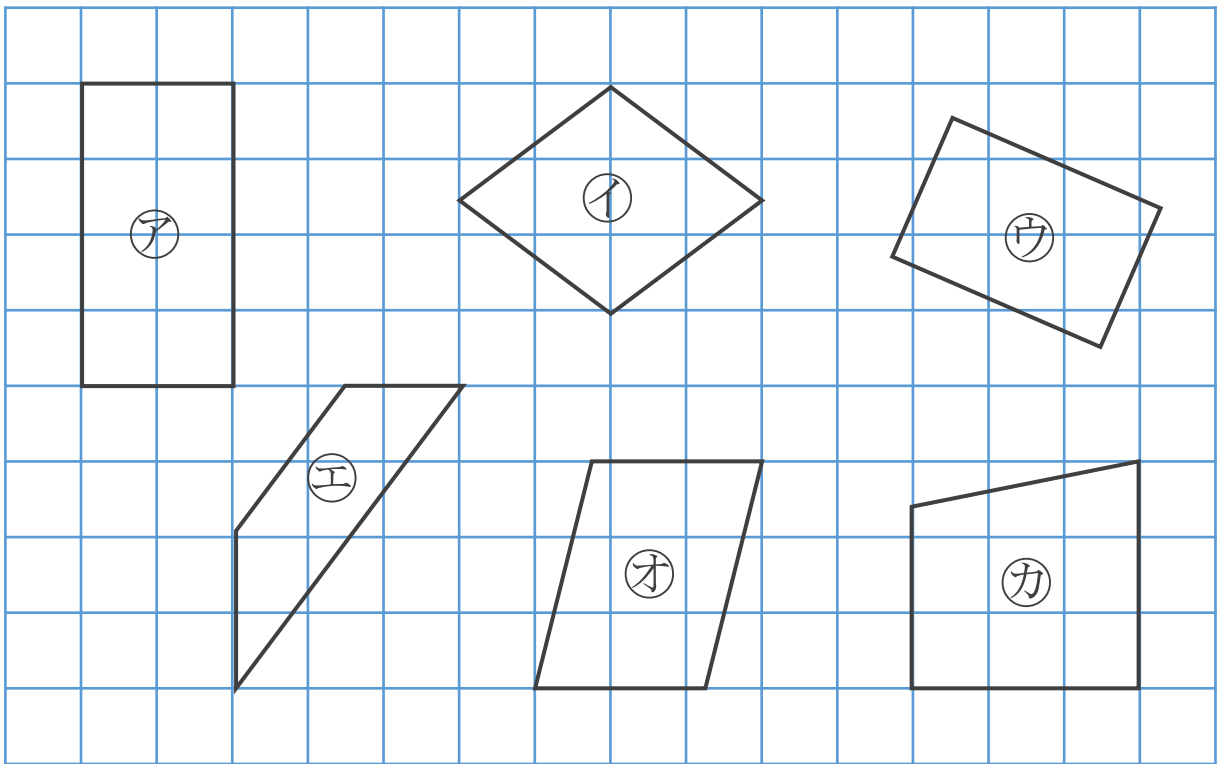
- ・ 長方形はどれですか。三角じょうぎをつかって、ぜんぶ見つけましょう。(うすい字はなぞりましょう。)

4つのかどがみんな直角になっている四角形を

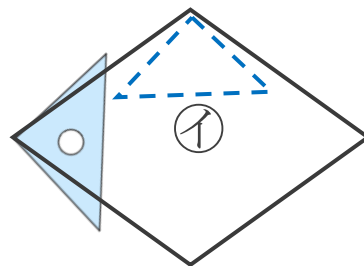
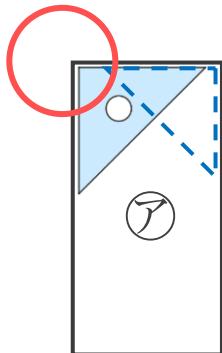
ちようほうけい

長方形

といいます。



三角じょうぎの直角のかどをあててみよう！



答え：

ア, ウ

