

3けたの数 7


2

◎ 10を集めた数

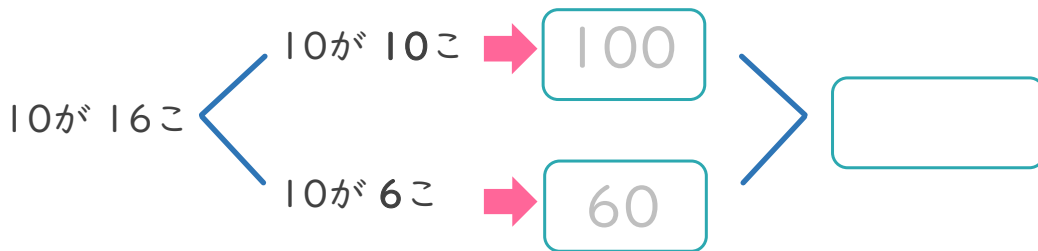
日にち： 月 日

名まえ _____

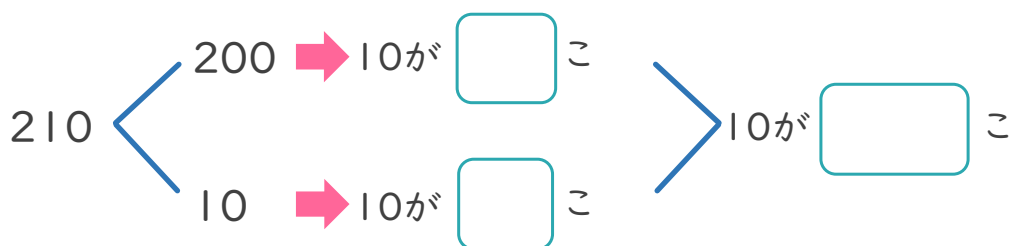

・ 10を 16こ あつめた 数はいくつですか。(うすい字はなぞりましょう。)




お金で考えると
わかりやすいね!



・ 210は、10を 何こ あつめた 数ですか。





3けたの数 7


◎ 10を集めた数

2

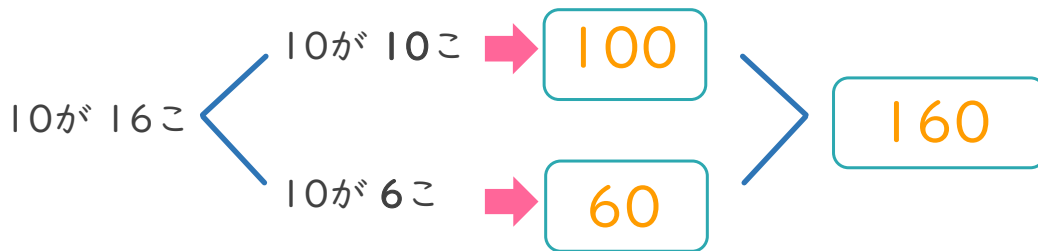
日にち： 月 日

名まえ _____

・ 10を 16こ あつめた 数はいくつですか。(うすい字はなぞりましょう。)



お金で考えると
わかりやすいね!



・ 210は、10を 何こ あつめた 数ですか。

