



# かけ算 31

● 2～5のだんの  
文しょうもんだい



日にち：            月            日


名まえ \_\_\_\_\_

1 えんぴつを 1人に 4本ずつ くばります。

2人に くばるには、えんぴつは ぜんぶで 何本 いらいますか。  
(うすい字はなぞりましょう。)

1つ分の数    いくつ分

しき:  $4 \times 2 =$



答え (            本 )

2 はこが 3はこ あります。


1はこに、りんごを 5こずつ いらいます。

りんごは、ぜんぶで なんこ いらいますか。

(うすい字はなぞりましょう。)

1つ分の数    いくつ分

しき:         $\times$         =



答え (            )





# かけ算 31

● 2～5のだんの  
文しょうもんだい



日にち：            月            日


名まえ \_\_\_\_\_

1 えんぴつを 1人に 4本ずつ くばります。

2人に くばるには、えんぴつは ぜんぶで 何本 いらいますか。  
(うすい字はなぞりましょう。)

1つ分の数    いくつ分

しき:  $4 \times 2 = 8$



答え  $( 8 \text{ 本 } )$

2 はこが 3はこ あります。


1はこに、りんごを 5こずつ いらいます。

りんごは、ぜんぶで なんこ いらいますか。

(うすい字はなぞりましょう。)

1つ分の数    いくつ分

しき:  $5 \times 3 = 15$



答え  $( 15 \text{ こ } )$

