



# かけ算 5

## 2のだんの九九



(うすい字はなぞりましょう。)

日にち：      月      日

名まえ \_\_\_\_\_

さくらんぼのみは何こでしょう？	しきをかきましょう。	となえ方
	$2 \times 1 = 2$	にいちがに
	$2 \times 2 =$	ににんがし
		にさんがろく
		にしがはち
		にごじゅう
		にろくじゅうに
		にしちじゅうし
		にはちじゅうろく
		にくじゅうはち



# かけ算 5







## 2のだんの九九



(うすい字はなぞりましょう。)

日にち：      月      日

名まえ \_\_\_\_\_

さくらんぼのみは何こでしょう？	しきをかきましょう。	となえ方
	$2 \times 1 = 2$	にいちがに
	$2 \times 2 = 4$	ににんがし
	$2 \times 3 = 6$	にさんがろく
	$2 \times 4 = 8$	にしがはち
	$2 \times 5 = 10$	にごじゅう
	$2 \times 6 = 12$	にろくじゅうに
	$2 \times 7 = 14$	にしちじゅうし
	$2 \times 8 = 16$	にはちじゅうろく
	$2 \times 9 = 18$	にくじゅうはち