



4けたの数 13

● いくつずつふえているかな

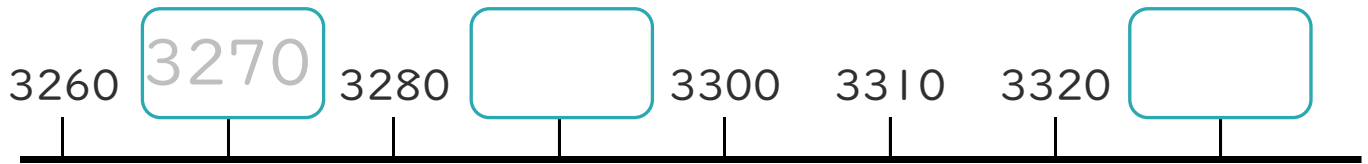


日にち： 月 日

名まえ _____

・ □ にあう数を書きましょう。(うすい字はなぞりましょう。)

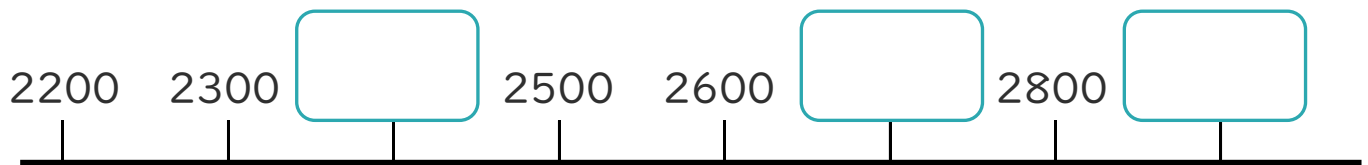
①



10ずつふえているね!



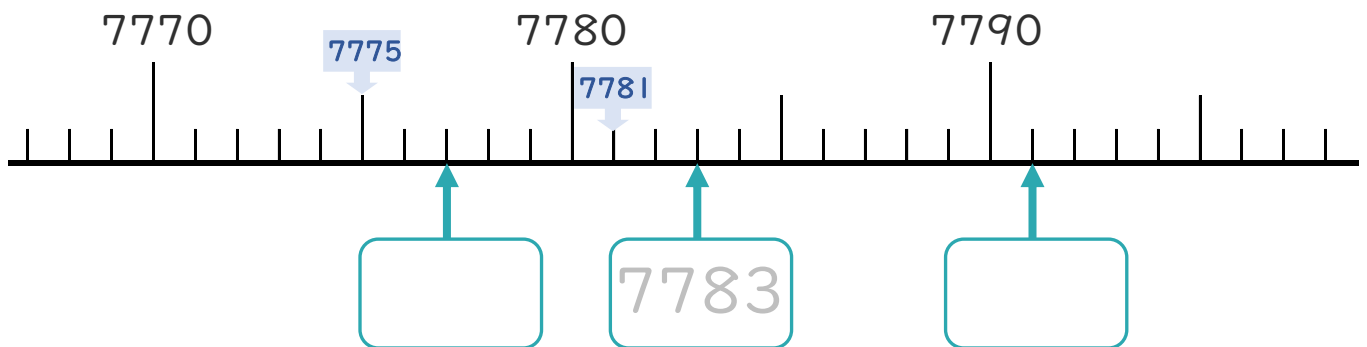
②




100ずつふえているね!



③





4けたの数 13

● いくつずつふえているかな



日にち： 月 日

名まえ _____

・ □ にあう数を書きましょう。(うすい字はなぞりましょう。)

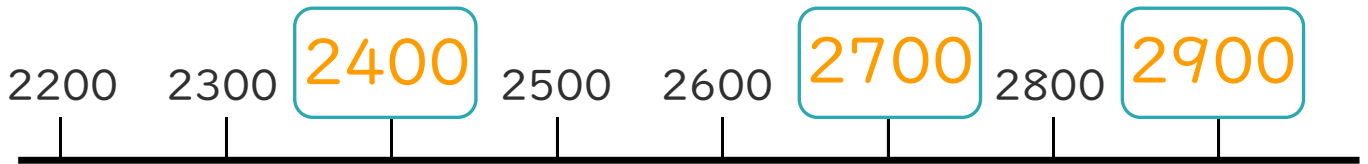
①



10ずつふえているね!



②



100ずつふえているね!



③

