



図を使って
考えよう 4

いろいろなたし算とひき算



日にち： 月 日

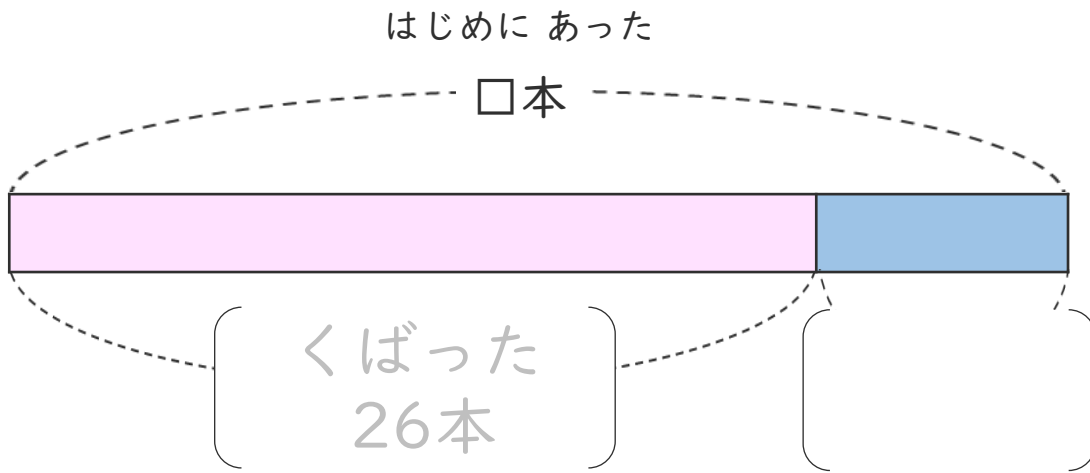
名まえ _____

・ ジュースが何本かあります。

26本くばったので、のこりが9本になりました。

(うすい字はなぞりましょう。)

① □ のことばをつかって図をかんせいさせましょう。



のこり	くばった	9本	26本
-----	------	----	-----


② ジュースは、はじめに何本ありましたか。

しきと答えを書きましょう。

しき ()

答え ()

<筆算スペース>





図を使って 考えよう 4

いろいろなたし算とひき算



日にち： 月 日

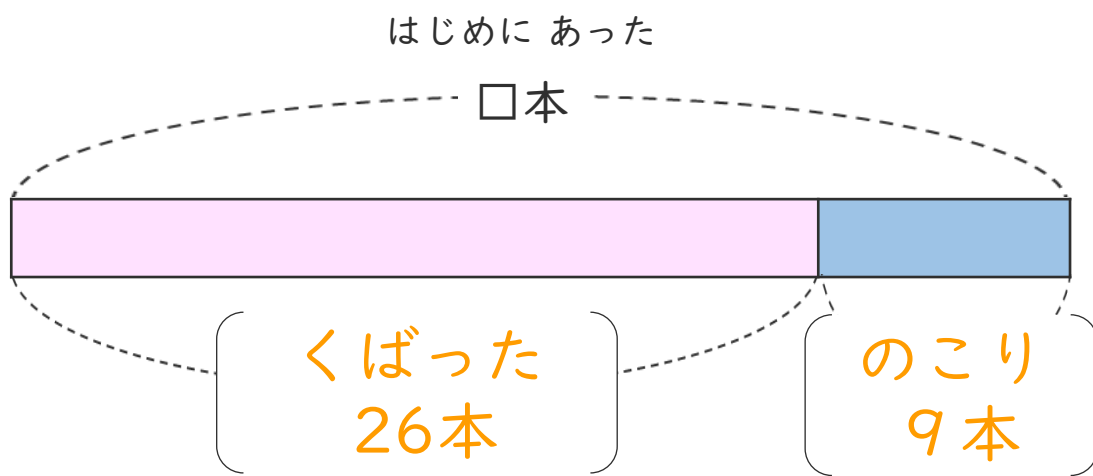
名まえ _____

- ・ ジュースが何本か あります。

26本くばったので、のこりが9本になりました。

(うすい字はなぞりましょう。)

- ① のことばをつかって図をかんせいさせましょう。



のこり	くばった	9本	26本
-----	------	----	-----

- ② ジュースは、はじめに何本 ありましたか。

しきと 答えを 書きましょう。

しき $\left(26 + 9 = 35 \right)$

答え $\left(35 \text{本} \right)$

<筆算スペース>

