



# かけ算 29


くふうして丸を数えよう



日にち：            月            日

名まえ \_\_\_\_\_

1 ● はぜんぶで何こありますか。● の数をもとめるかけ算のしきを2つ書いて答えましょう。




しき：

しき：

答え： \_\_\_\_\_

2 ● はぜんぶで何こありますか。● の数をもとめるかけ算のしきを2つ書いて答えましょう。



しき：

しき：

答え： \_\_\_\_\_



## かけ算 29


くふうして丸を数えよう



日にち：            月            日

名まえ \_\_\_\_\_

1 ● はぜんぶで何こありますか。● の数をもとめるかけ算のしきを2つ書いて答えましょう。




$$\text{しき： } 5 \times 6 = 30$$

$$\text{しき： } 6 \times 5 = 30$$

答え： 30こ

2 ● はぜんぶで何こありますか。● の数をもとめるかけ算のしきを2つ書いて答えましょう。



$$\text{しき： } 6 \times 7 = 42$$

$$\text{しき： } 7 \times 6 = 42$$

答え： 42こ