



計算のくふう7

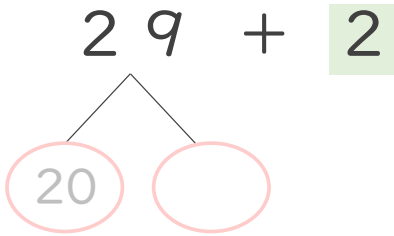
◎ たし算のくふう
(何十といくつに分ける)



日にち： 月 日

名まえ _____

・ $29 + 2$ の計算をしましょう。(うすい字はなぞりましょう。)

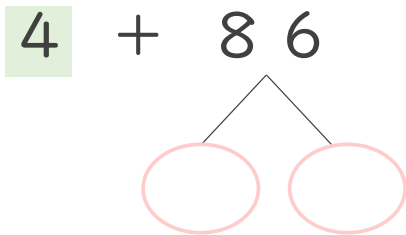


① 29 は 20 と

② 9 と 2 で

③ 20 と で 答え

・ $4 + 86$ の計算をしましょう。

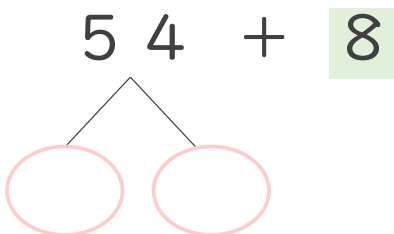


① 86 は と

② 4 と 6 で

③ 80 と で 答え

・ $54 + 8$ の計算をしましょう。




① 54 は と

② 4 と 8 で

③ 50 と で 答え





計算のくふう7

● たし算のくふう
(何十といくつに分ける)



日にち： 月 日

名まえ _____

- ・ $29 + 2$ の計算をしましょう。(うすい字はなぞりましょう。)

$$\begin{array}{r} 29 + 2 \\ \swarrow \searrow \\ 20 \quad 9 \end{array}$$

① 29 は 20 と 9

② 9 と 2 で 11

③ 20 と 11 で 31

答え

- ・ $4 + 86$ の計算をしましょう。

$$\begin{array}{r} 4 + 86 \\ \swarrow \searrow \\ 80 \quad 6 \end{array}$$

① 86 は 80 と 6

② 4 と 6 で 10

③ 80 と 10 で 90

答え

- ・ $54 + 8$ の計算をしましょう。

$$\begin{array}{r} 54 + 8 \\ \swarrow \searrow \\ 50 \quad 4 \end{array}$$

① 54 は 50 と 4

② 4 と 8 で 12

③ 50 と 12 で 62

答え

