



計算のくふう⑨

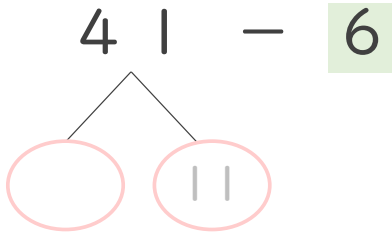
◎ ひき算のくふう
(何十といくつに分ける)



日にち： 月 日

名まえ _____

・ 41 - 6 の計算をしましょう。(うすい字はなぞりましょう。)

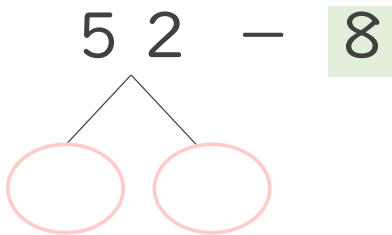


① 41 は 30 と 11

② 11 - 6 =

③ と で 答え

・ 52 - 8 の計算をしましょう。

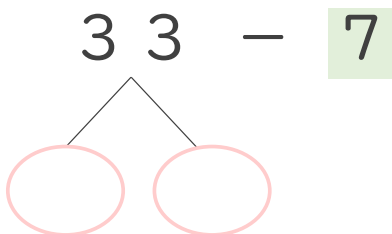


① 52 は と 12

② 12 - 8 =

③ と で 答え

・ 33 - 7 の計算をしましょう。



① 33 は と

② 13 - 7 =

③ と で 答え



計算のくふう⑨

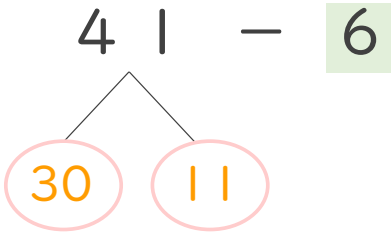
◎ ひき算のくふう
(何十といくつに分ける)



日にち： 月 日

名まえ _____

・ $41 - 6$ の計算をしましょう。(うすい字はなぞりましょう。)

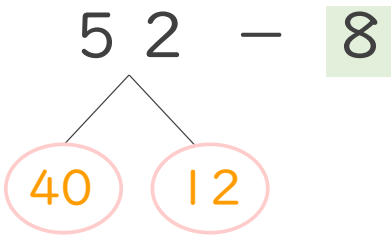


① 41 は 30 と 11

② $11 - 6 = 5$

③ 30 と 5 で 35 答え

・ $52 - 8$ の計算をしましょう。

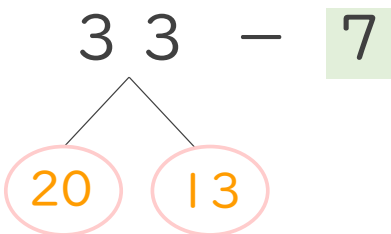


① 52 は 40 と 12

② $12 - 8 = 4$

③ 40 と 4 で 44 答え

・ $33 - 7$ の計算をしましょう。



① 33 は 20 と 13

② $13 - 7 = 6$

③ 20 と 6 で 26 答え