



# 3けたの数4

● ぼうや紙のたばを  
数字であらわそう


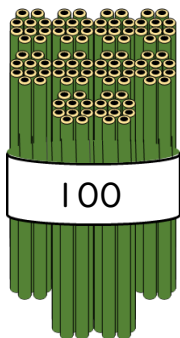


日にち： 月 日

名まえ \_\_\_\_\_

・ ぼうや色紙の数を、数字で書きましょう。(うすい字はなぞりましょう。)

①



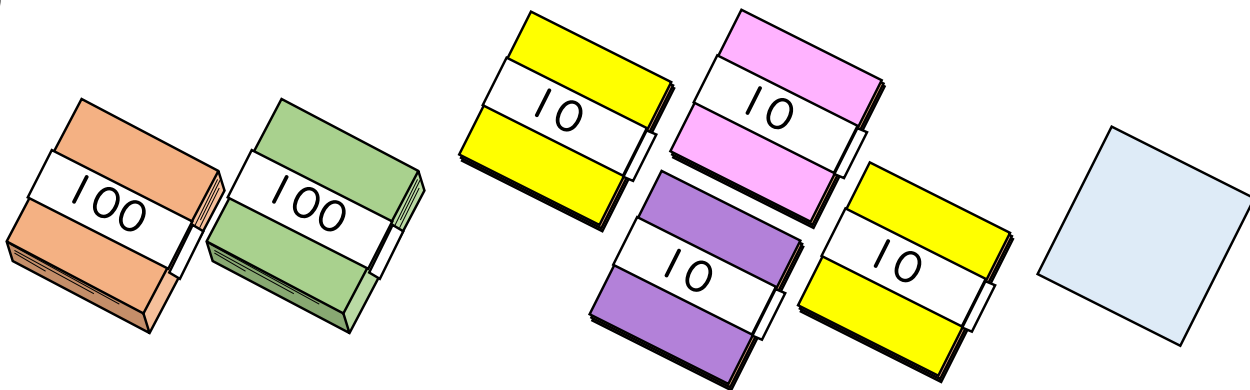
百	十	一
1	8	0

それぞれのたばの数を  
表に入れてみよう!



(                      本 )

②



百	十	一

(                      まい )

③ 確認





# 3けたの数4

● ぼうや紙のたばを  
数字であらわそう


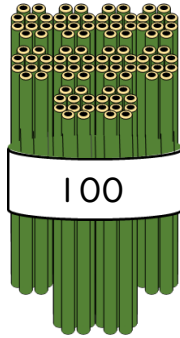


日にち： 月 日

名まえ \_\_\_\_\_

・ ぼうや色紙の数を、数字で書きましょう。(うすい字はなぞりましょう。)

①



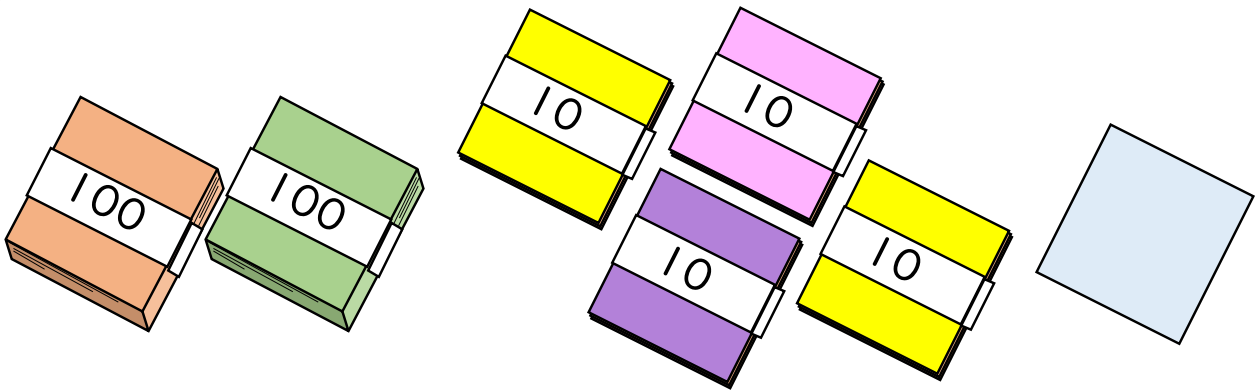
百	十	一
1	8	0

それぞれのたばの数を  
表に入れてみよう!



〔 180 本 〕

②



百	十	一
2	4	1

〔 241 まい 〕

③ 確認 答え



すらすらぷりんと