



分数3


● もとの大きさの○分の一をさがす

3

日にち： 月 日

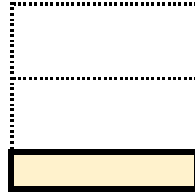
名まえ

1 もとの大きさの $\frac{1}{4}$ はどれですか。(うすい字はなぞりましょう。)

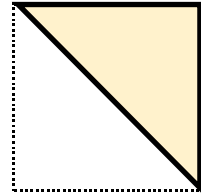


もとの大きさ

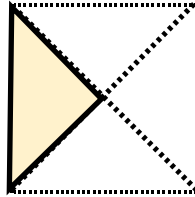
㉠



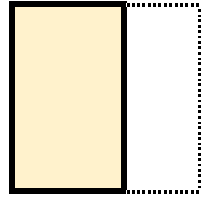
㉡



㉢




㉣



答え：

㉢

2 もとの大きさの $\frac{1}{3}$ はどれですか。

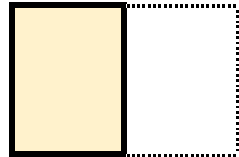


もとの大きさ

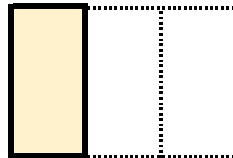
㉠



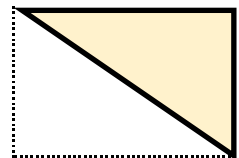
㉡



㉢




㉣



答え：





分数3


● もとの大きさの○分の一をさがす

3

日にち： 月 日

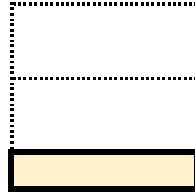
名まえ

1 もとの大きさの $\frac{1}{4}$ はどれですか。(うすい字はなぞりましょう。)

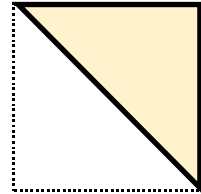


もとの大きさ

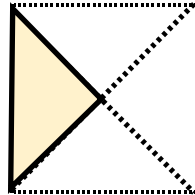
㊦



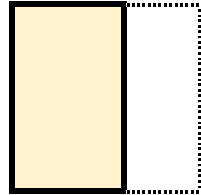
㊦



㊦




㊦



答え：

㊦

2 もとの大きさの $\frac{1}{3}$ はどれですか。

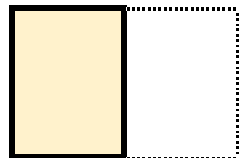


もとの大きさ

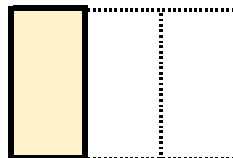
㊦



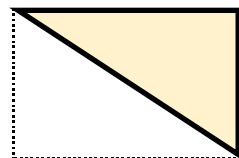
㊦



㊦



㊦



答え：

㊦

