



長さのたんい 7

● ものさしではかる (mm)

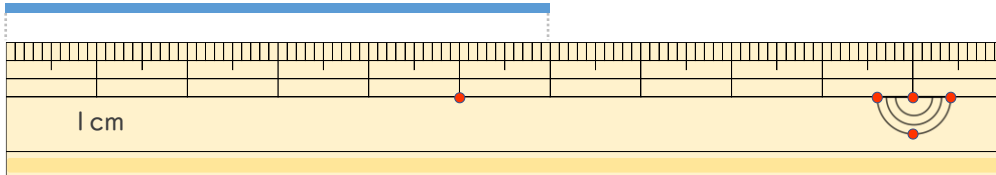


日にち： 月 日

名まえ _____

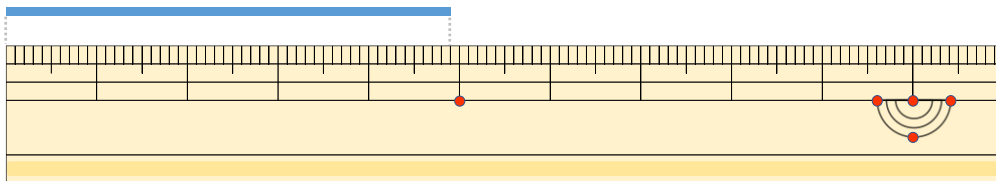
・ 線の ^{せん}長さは ^{なが}どれだけですか。 (うすい字は ^じなぞりましょう。)

①



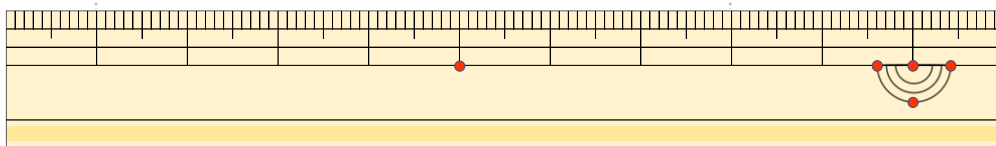
こた
答え ()

②



こた
答え ()

③



こた
答え ()





長さのたんい 7

● ものさしではかる (mm)

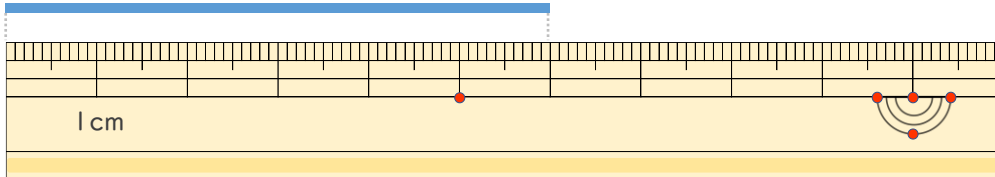


日にち： 月 日

名まえ _____

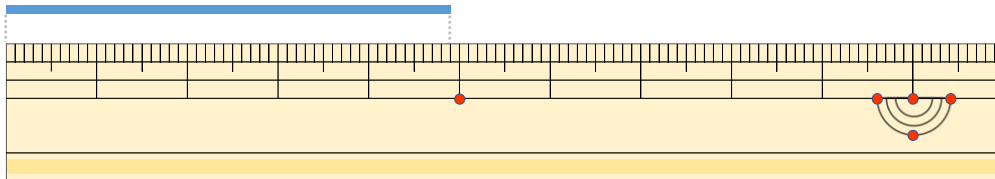
・線の長さ（せんなが）はどれだけですか。（うすい字（じ）はなぞりましょう。）

①



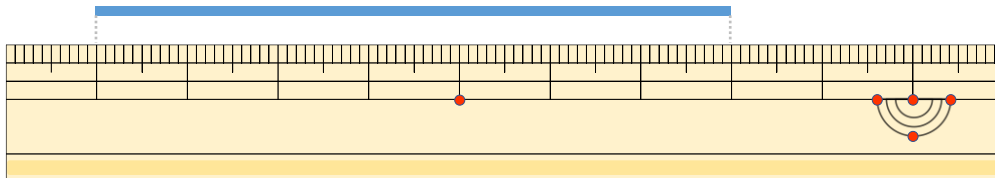
こた 答え（ 6 cm ）

②



こた 答え（ 4 cm 9 mm ）

③



こた 答え（ 7 cm ）

