



# 長さのたんい 7

● ものさしではかる (mm)

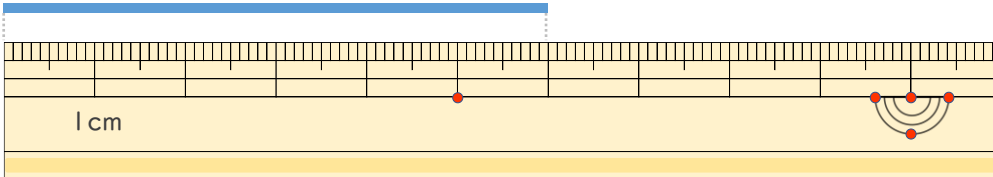


日にち：            月            日

名まえ \_\_\_\_\_

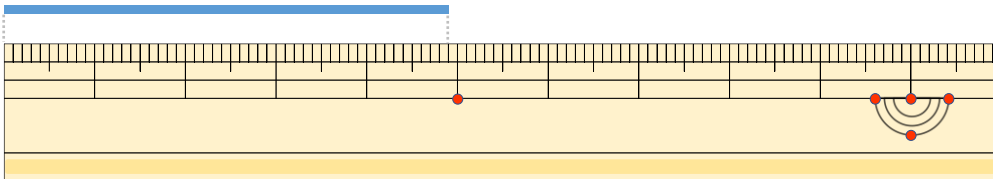
・線の長さ（せんなが）はどれだけですか。（うすい字（じ）はなぞりましょう。）

①



答え（                      cm ）

②



答え（                      ）

③



答え（                      ）



# 長さのたんい 7

● ものさしではかる (mm)

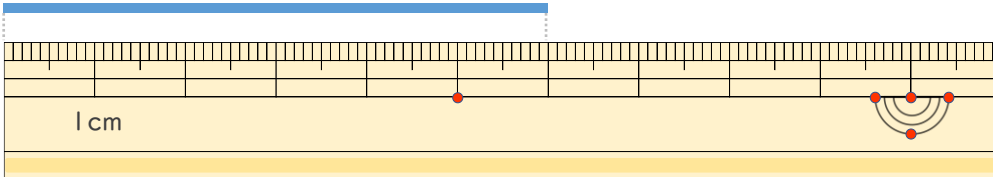


日にち：            月            日

名まえ \_\_\_\_\_

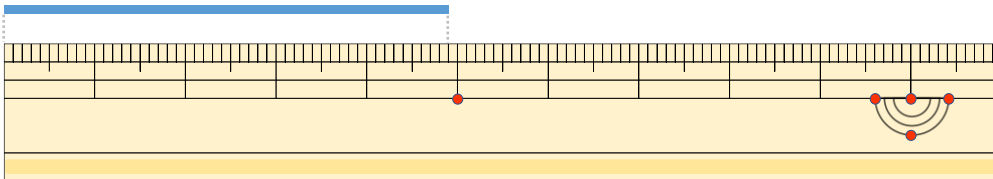
・線の長さはどれだけですか。(うすい字はなぞりましょう。)

①



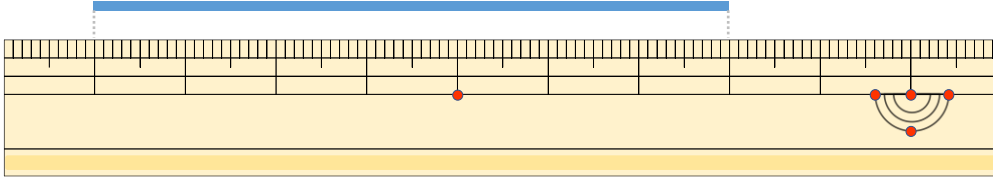
こた 答え ( 6 cm )

②



こた 答え ( 4 cm 9 mm )

③



こた 答え ( 7 cm )

