



長さのたんい 3

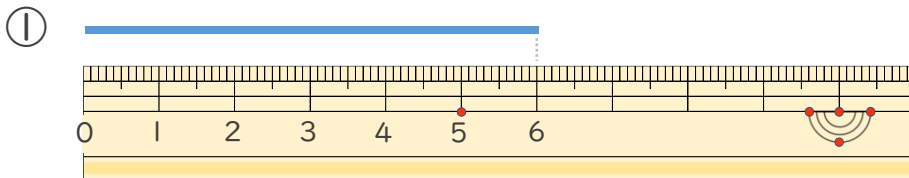
● 物のさしの見かた (cm)



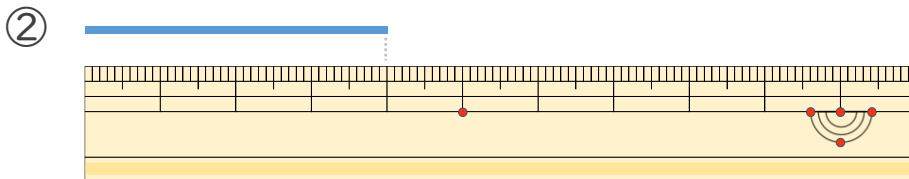
日にち： 月 日

名まえ _____

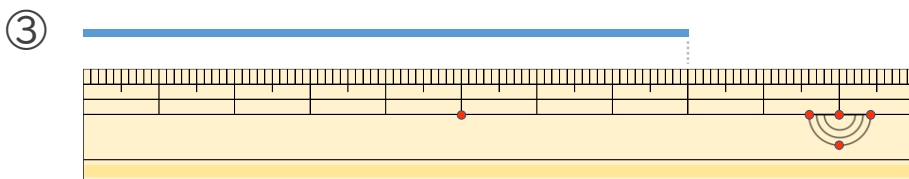
・ 線の ^{せん}長さは ^{なが}何 ^{なん}cm でしょう。(うすい字は ^じなぞりましょう。)



こた
答え (cm)



こた
答え ()



こた
答え ()



長さのたんい 3

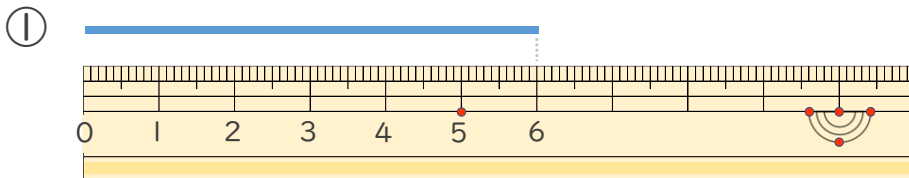
● ものさしの見かた (cm)



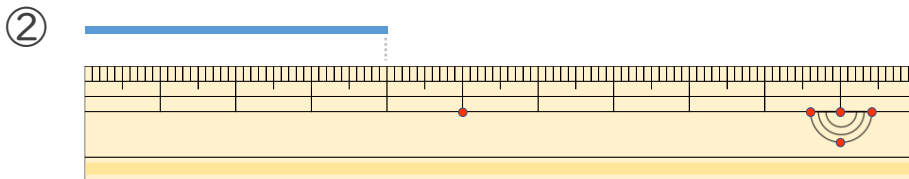
日にち： 月 日

名まえ _____

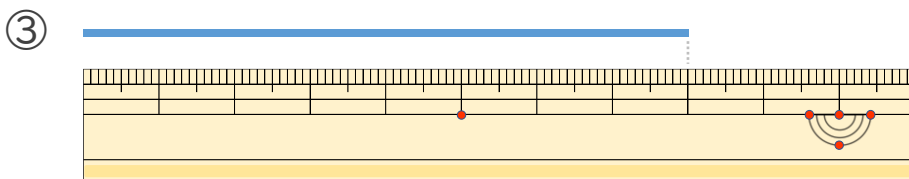
・ 線の長さは何cmでしょう。(うすい字はなぞりましょう。)



こた 答え (6 cm)



こた 答え (4 cm)



こた 答え (8 cm)

