



ひき算のひっ算 I

◎ タイルでかんがえる



日にち： 月 日

名まえ _____

- ・ ゆうきさんは 49円 もっています。34円の ラムネを 買います。のこりは いくらですか。

もっている お金

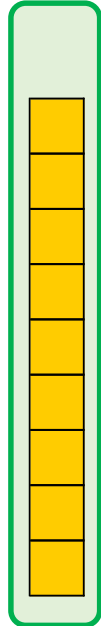
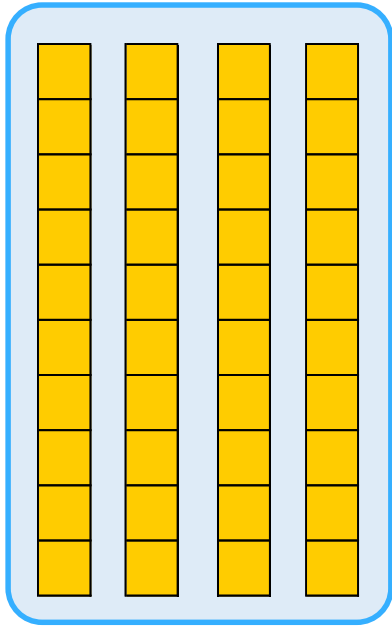
ラムネ

十のくらい

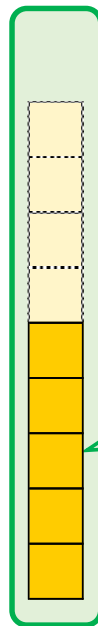
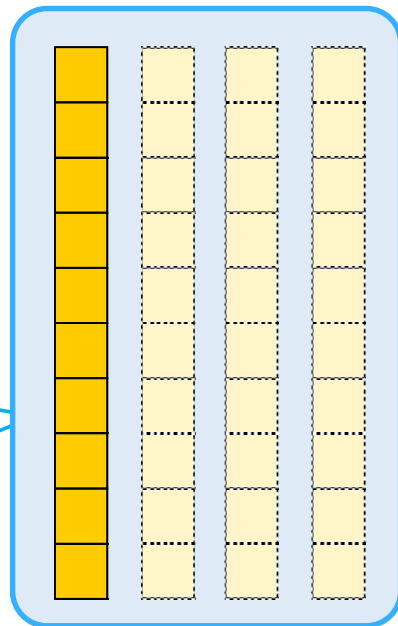

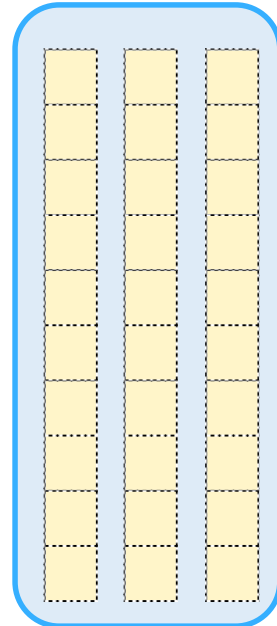
一のくらい

十のくらい

一のくらい



—



答え： _____





ひき算のひっ算 I

◎ タイルでかんがえる



日にち： 月 日

名まえ _____

- ・ ゆうきさんは 49円 もっています。34円の ラムネを 買います。のこりは いくらですか。

もっている お金

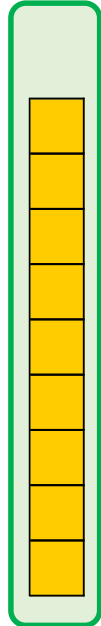
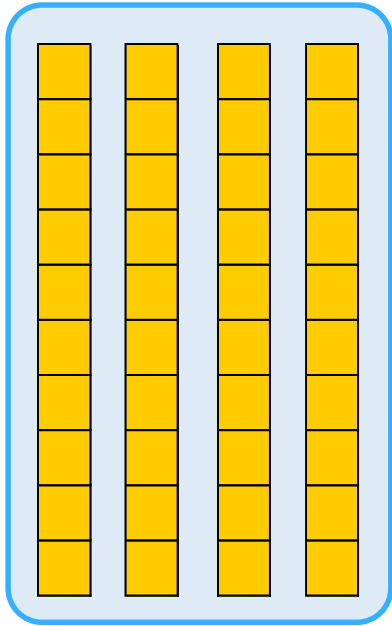
ラムネ

十のくらい


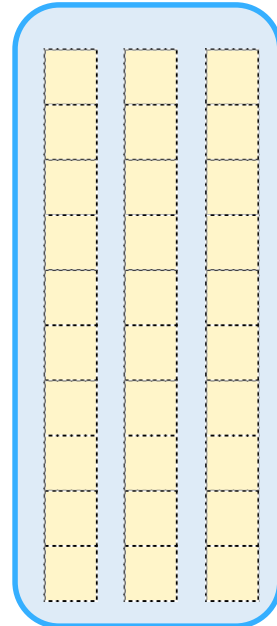
一のくらい

十のくらい

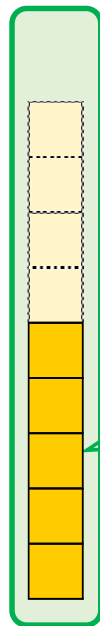
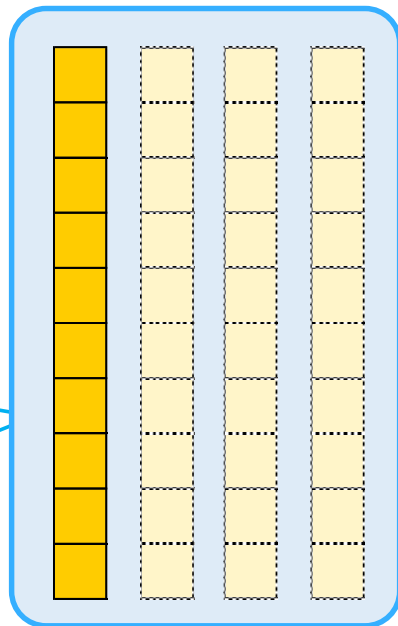
一のくらい



—



10



5

答え： 15円

