



# たし算のひっ算 I

◎ タイルで数える  
(ひっ算のじゅんぴ)



日にち： 月 日

名まえ \_\_\_\_\_

- ・みわさんは 52円のクッキーと、23円のグミを買います。  
だいたいはいくらになりますか。(うすい字はなぞりましょう。)

クッキー


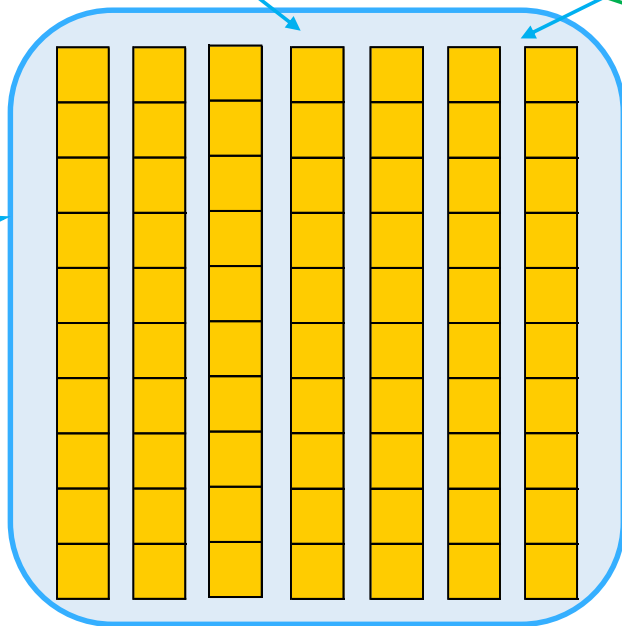
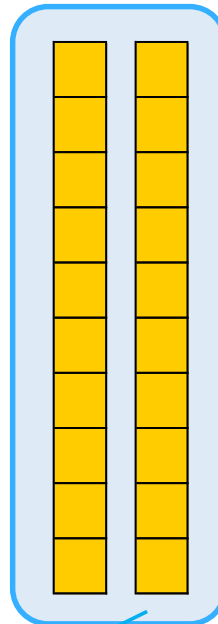

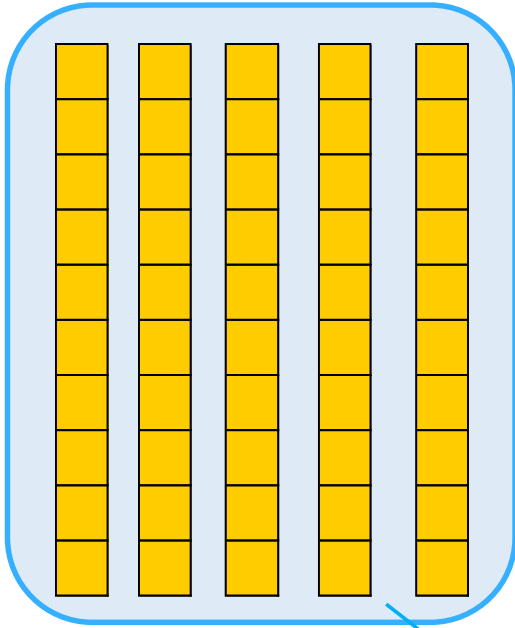
グミ

十のくらい

一のくらい

十のくらい

一のくらい



5

答え： \_\_\_\_\_





# たし算のひっ算！

◎ タイルで数える  
(ひっ算のじゅんび)



日にち： 月 日

名まえ \_\_\_\_\_

- ・みわさんは 52円のクッキーと、23円のグミを買います。  
だいたいはいくらになりますか。(うすい字はなぞりましょう。)

クッキー


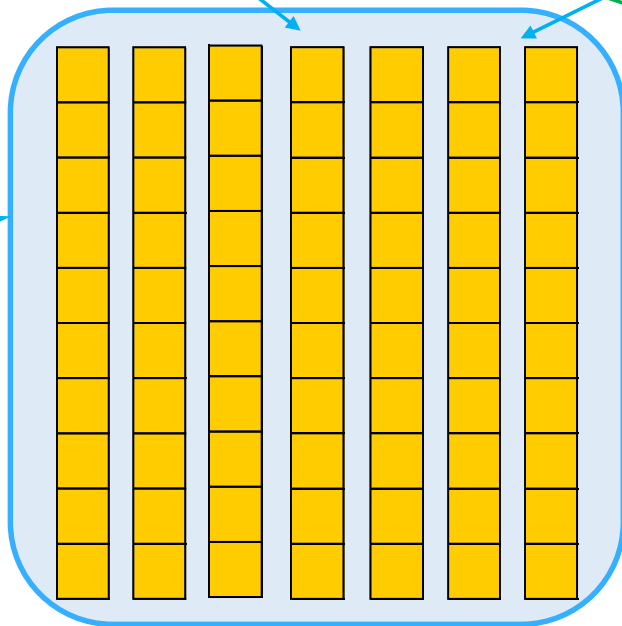
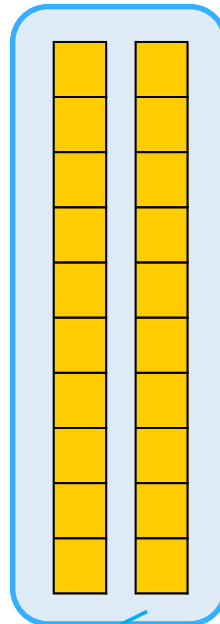

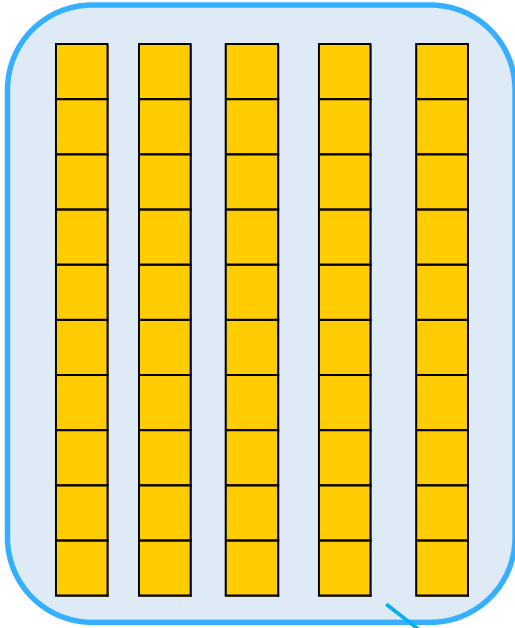
グミ

十のくらい

一のくらい

十のくらい

一のくらい



70

5

答え： 75円

