



# かけ算 27

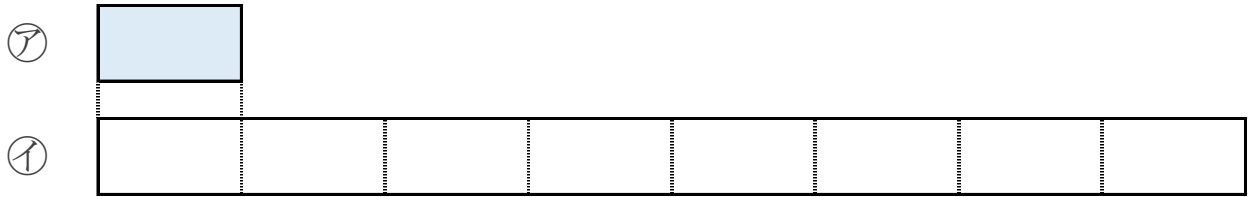
● リボンの長さは何倍？



日にち：            月            日

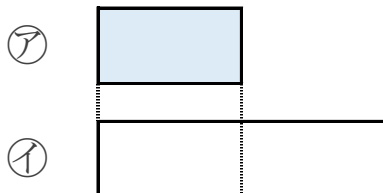
名まえ \_\_\_\_\_

1 ①のリボンの長さは、②のリボンの長さの何ばいですか。



答え： \_\_\_\_\_

2 ①のリボンの長さは、②のリボンの長さの何ばいですか。



答え： \_\_\_\_\_



# かけ算 27

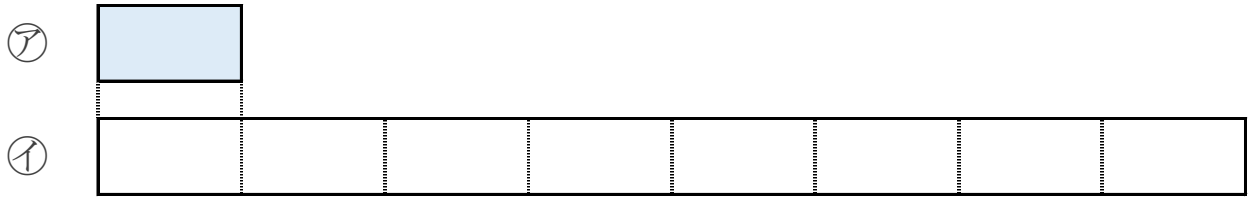
● リボンの長さは何倍？



日にち：            月            日

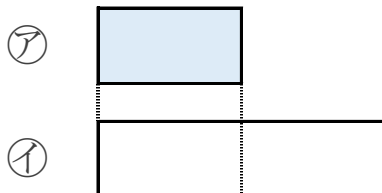
名まえ \_\_\_\_\_

1 ①のリボンの長さは、②のリボンの長さの何ばいですか。



答え： 8ばい

2 ①のリボンの長さは、②のリボンの長さの何ばいですか。



答え： 2ばい

