



かけ算 26

● リボンの2ばいの長さ

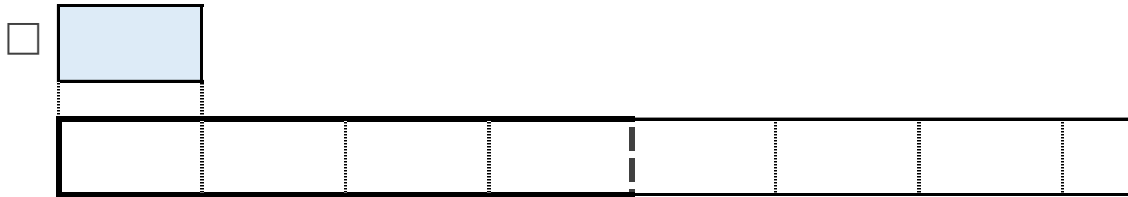


日にち： 月 日

名まえ _____

1 | ㊦のリボンの4ばいの長さを求めましょう。

① ㊦のリボンの4ばいの長さに色をぬりましょう。



② ㊦のリボンの長さは、7cmです。


①でぬったところの長さは何cmですか。

しき：

答え： _____

2 □のリボンの7ばいの長さを求めましょう。

① □のリボンの7ばいの長さに色をぬりましょう。



② ㊦のリボンの長さは、6cmです。

①でぬったところの長さは何cmですか。

しき：

答え： _____





かけ算 26

● リボンの2ばいの長さ

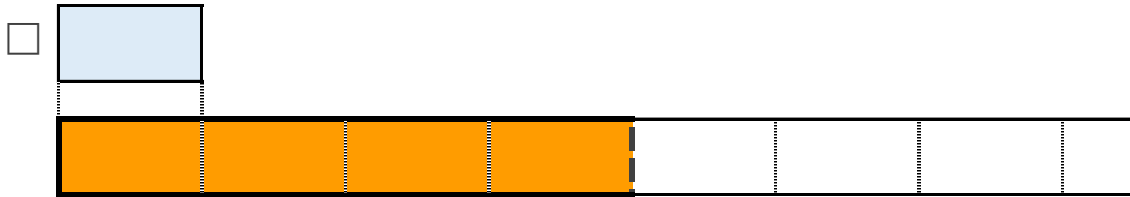


日にち： 月 日

名まえ _____

アのリボンの4ばいの長さを求めましょう。

① アのリボンの4ばいの長さに色をぬりましょう。



② アのリボンの長さは、7cmです。

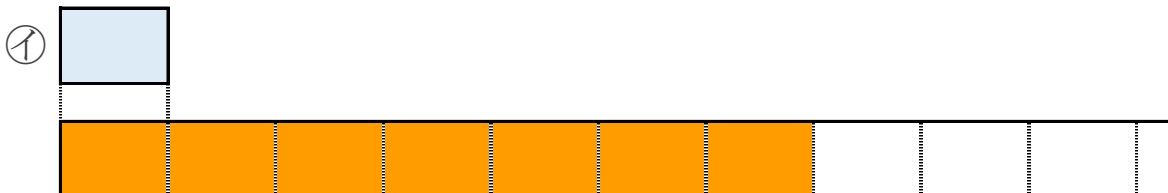
①でぬったところの長さは何cmですか。

$$\text{しき： } 7 \times 4 = 28$$

答え： 28cm

2 □のリボンの7ばいの長さを求めましょう。

① □のリボンの7ばいの長さに色をぬりましょう。



② イのリボンの長さは、6cmです。

①でぬったところの長さは何cmですか。

$$\text{しき： } 6 \times 7 = 42$$

答え： 42cm

