



長方形と正方形 2

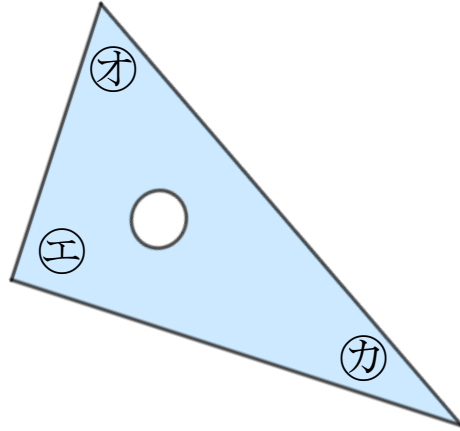
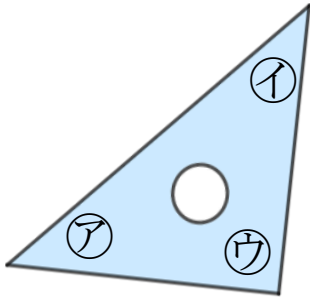
● 三角じょうぎの
直角の角はどれ？



日にち： 月 日

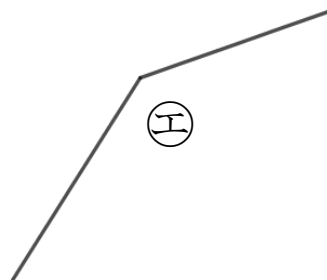
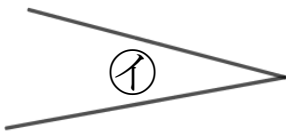
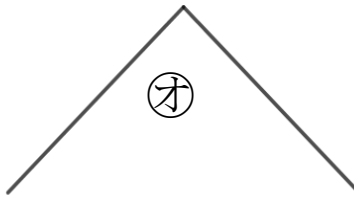
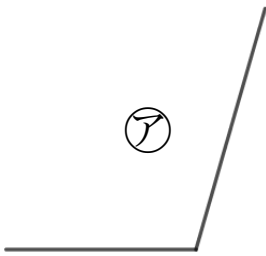
名まえ _____

- 1 三角じょうぎの直角のかどはどこですか。
(うすい字はしっかりなぞりましょう。)



答え： ウ ,

- 2 直角はどれですか。三角じょうぎをつかってぜんぶ見つけましょう。
(うすい字はしっかりなぞりましょう。)



答え： ウ ,



長方形と正方形 2

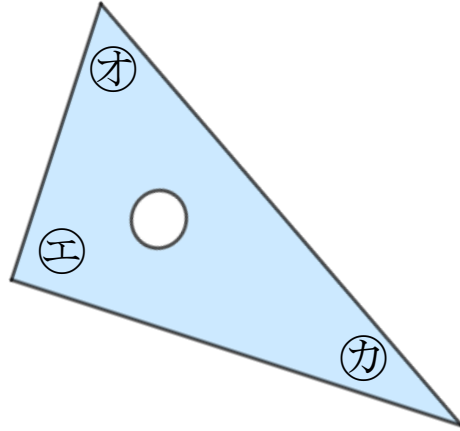
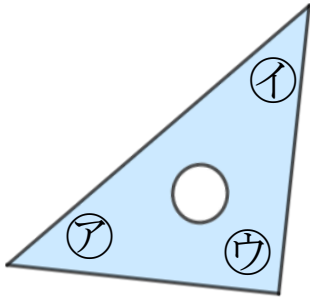
◎ 三角じょうぎの
直角の角はどれ？



日にち： 月 日

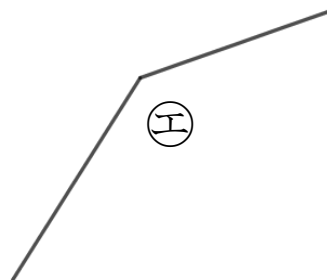
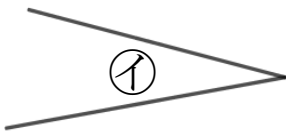
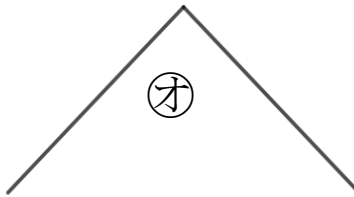
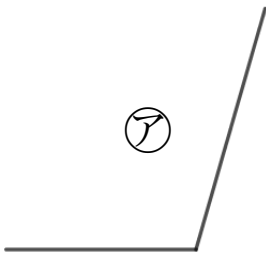
名まえ _____

- 1 三角じょうぎの直角のかどはどこですか。
(うすい字はしっかりなぞりましょう。)



答え： **ウ** , **エ**

- 2 直角はどれですか。三角じょうぎをつかってぜんぶ見つけましょう。
(うすい字はしっかりなぞりましょう。)



答え： **ウ** , **オ**