



# 長方形と正方形 I

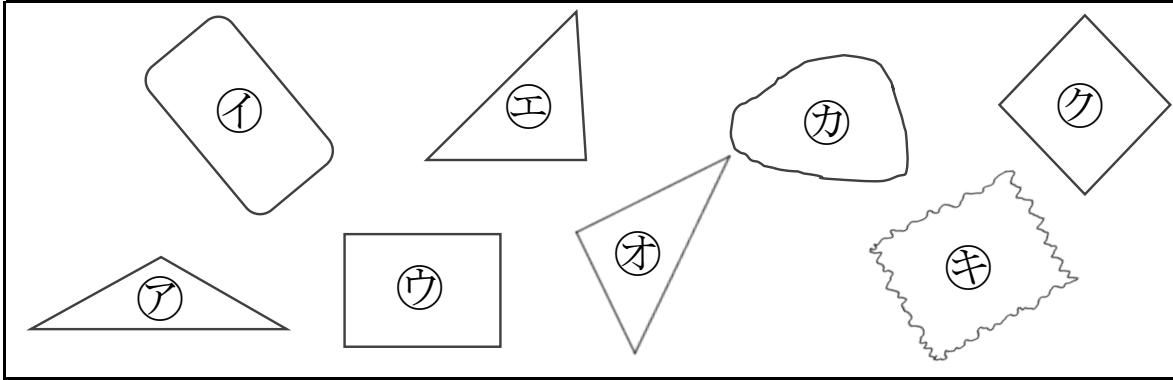
● 三角形や四角形をさがせ



日にち： 月 日

名まえ \_\_\_\_\_

1 下の㉠～㉧から三角形や四角形を見つけましょう。

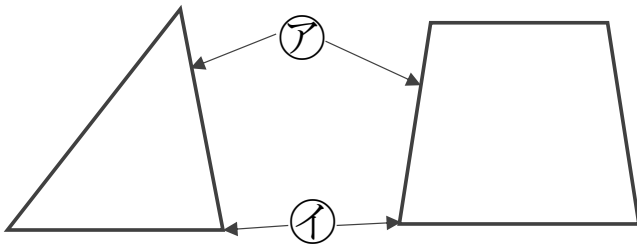


答え： 三角形…

四角形…

2 つぎのもんだいに答えましょう。

① つぎの㉡、㉢の名前を答えましょう。



答え： ㉡…

㉢…

② 三角形、四角形には、ちょう点やへんはそれぞれいくつありますか。

答え： 三角形… ちょう点 3つ、へん 3本

四角形… ちょう点 4つ、へん 4本



# 長方形と正方形 I

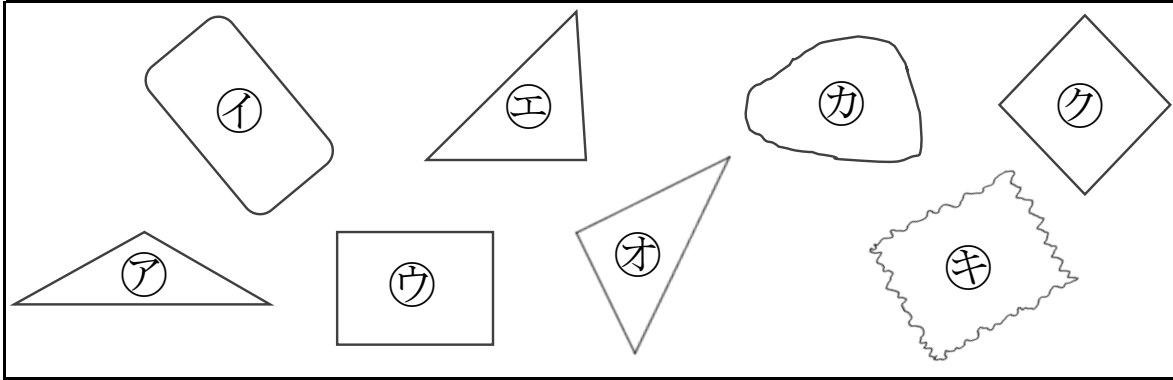
● 三角形や四角形をさがせ



日にち： 月 日

名まえ \_\_\_\_\_

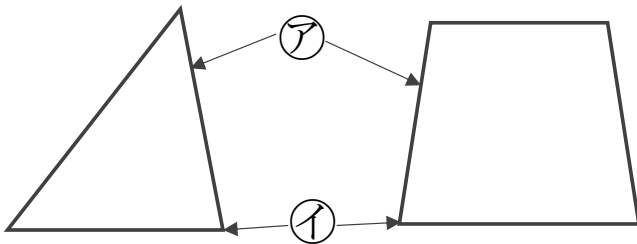
1 下の㉠～㉧から三角形や四角形を見つけましょう。



答え： 三角形… ㉠, ㉢, ㉤  
四角形… ㉡, ㉦

2 つぎのもんだいに答えましょう。

① つぎの㉠、㉡の名前を答えましょう。



答え： ㉠… へん  
㉡… ちょう点

② 三角形、四角形には、ちょう点やへんはそれぞれいくつありますか。

答え： 三角形… ちょう点 3つ、へん 3本  
四角形… ちょう点 4つ、へん 4本