



3けたの数 12

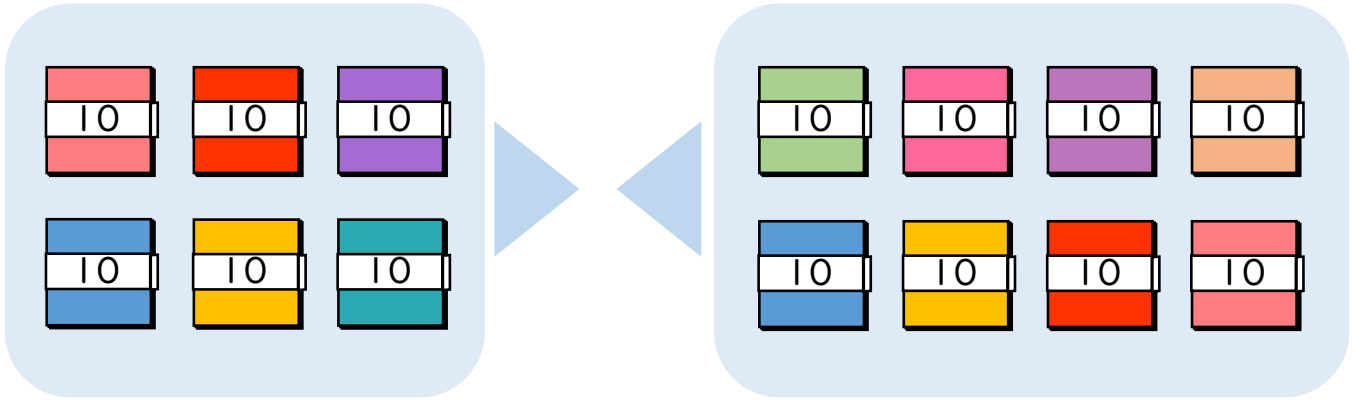
◎ 十のたばのたし算・ひき算



日にち： 月 日

名まえ _____

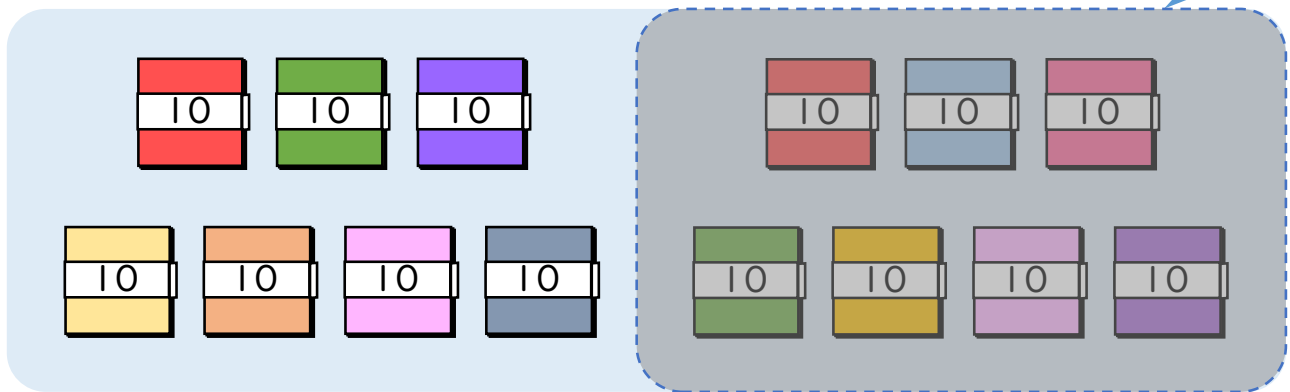
- 60+80の答えはいくつですか。(うすい字はなぞりましょう。)



10のたばが + = で こだから

$$60 + 80 = \boxed{}$$

- 140-70の答えはいくつですか。



10のたばが - = で こだから

$$140 - 70 = \boxed{}$$





3けたの数 12

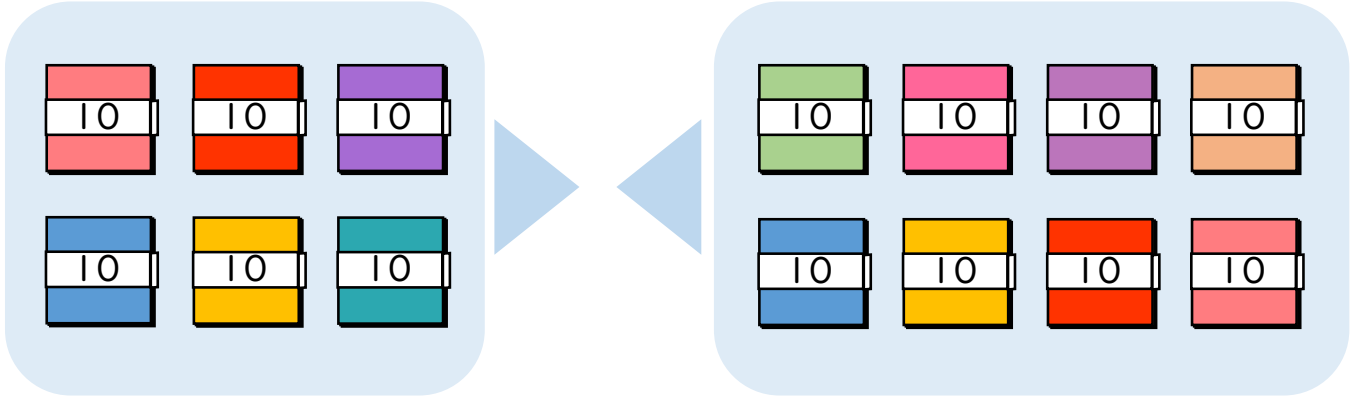
十のたばのたし算・ひき算



日にち： 月 日

名まえ _____

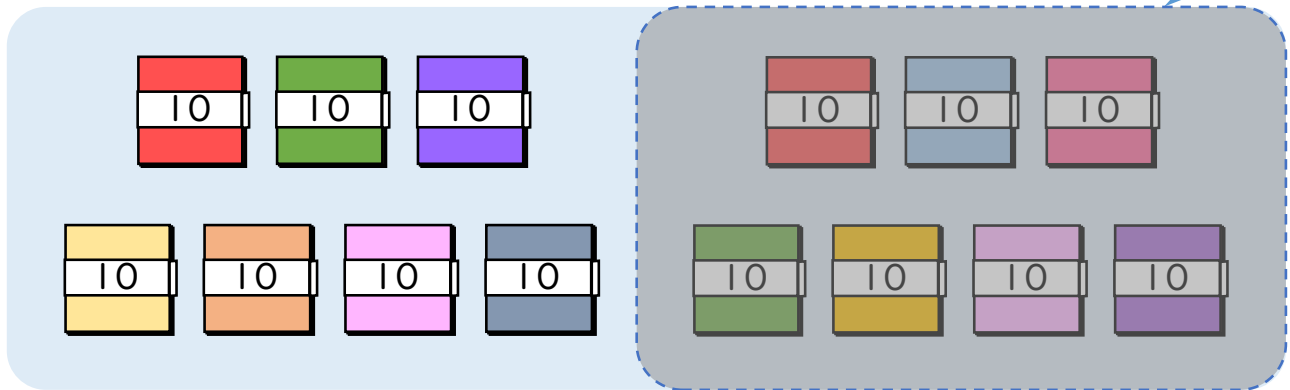
- 60+80の答えはいくつですか。(うすい字はなぞりましょう。)



10のたばが $6 + 8 = 14$ で 14 こだから

$$60 + 80 = 140$$

- 140-70の答えはいくつですか。



10のたばが $14 - 7 = 7$ で 7 こだから

$$140 - 70 = 70$$

