



4けたの数 I

● 千のまとまり




日にち： 月 日

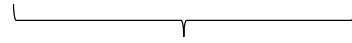

名まえ _____

・ ビーズは何こありますか。□にかずをかきましょう。


(うすい字はなぞりましょう。)



1000が □ こ




100が □ こ



10が □ こ



1が □ こ



は ・ が 100こだよ！

100が10こで1000になるね！



ビーズは

□ □ □ □ □

こ





4けたの数 I

● 千のまとまり




日にち： 月 日

名まえ _____


・ ビーズは何こありますか。□にかずをかきましょう。

(うすい字はなぞりましょう。)




1000が 1 こ

1000が 1 こ



100が 6 こ

100が 6 こ




10が 7 こ

10が 7 こ



1が 9 こ

1が 9 こ



は ・ が 100こだよ！

100が10こで1000になるね！



ビーズは

1 6 7 9 こ

こ

