



4けたの数 I


● 千のまとまり



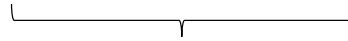

日にち： 月 日

名まえ _____


・ ビーズは何こありますか。□ に数を書きましょう。




1000が □ こ




100が □ こ



10が □ こ



1が □ こ



は ● が 100こだよ！

100が10こで1000になるね！



ビーズは

□ □ □ □ □

こ





4けたの数 I

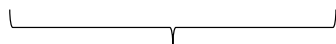

● 千のまとまり



日にち： 月 日

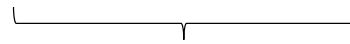

名まえ _____

・ ビーズは何こありますか。□ に数を書きましょう。




1000が □ こ

1



100が □ こ

6




10が □ こ

7



1が □ こ

9



は ● が 100こだよ！

100が10こで1000になるね！



ビーズは

1 6 7 9

こ

