



4けたの数 〇〇

◎ 数百のたし算・ひき算

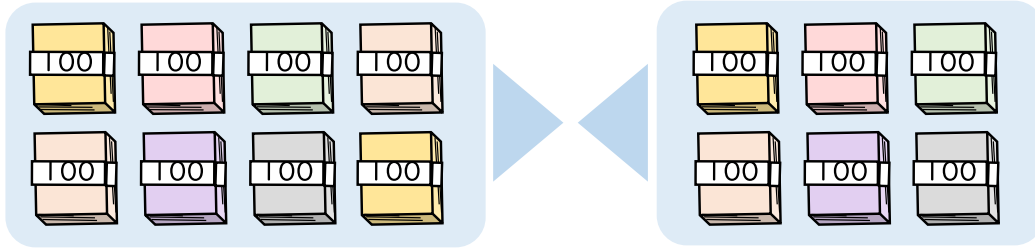


日にち： 月 日

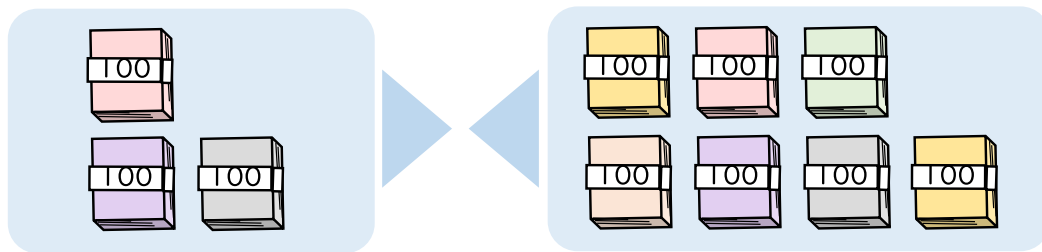
名まえ _____

・ たし算をしましょう。

① $800 + 600 =$

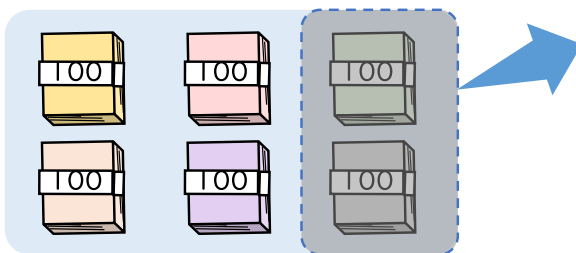


② $300 + 700 =$

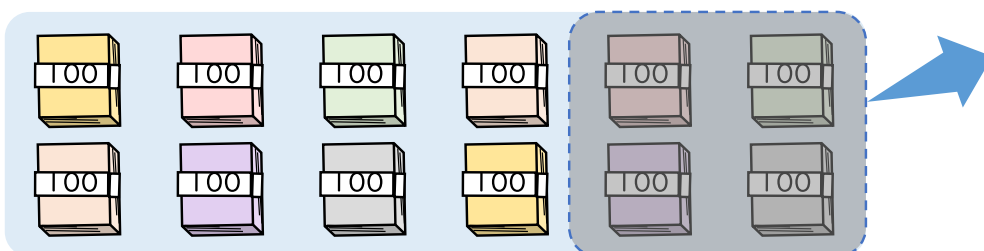


・ ひき算をしましょう。

① $600 - 200 =$



② $1200 - 400 =$





4けたの数 〇〇

◎ 数百のたし算・ひき算

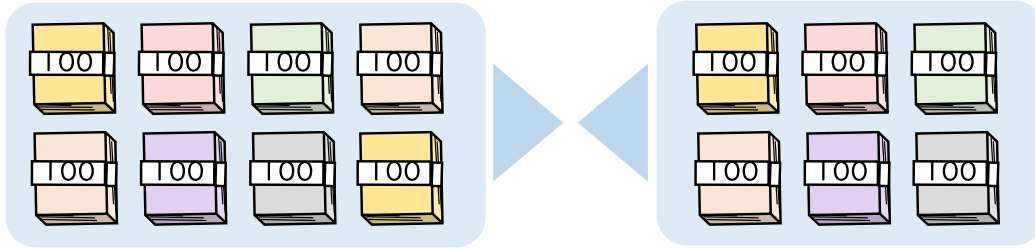


日にち： 月 日

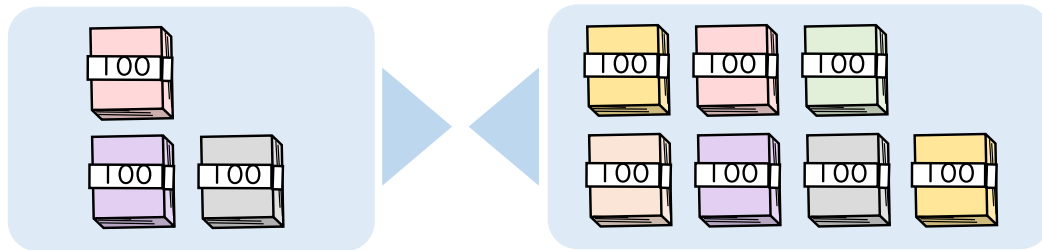
名まえ _____

・ たし算をしましょう。

① $800 + 600 = 1400$

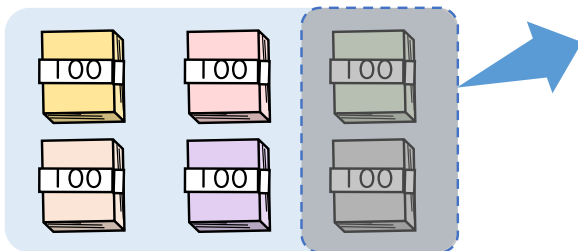


② $300 + 700 = 1000$



・ ひき算をしましょう。

① $600 - 200 = 400$



② $1200 - 400 = 800$

