



# 長方形と正方形 9

◎ 長方形かな？正方形かな？



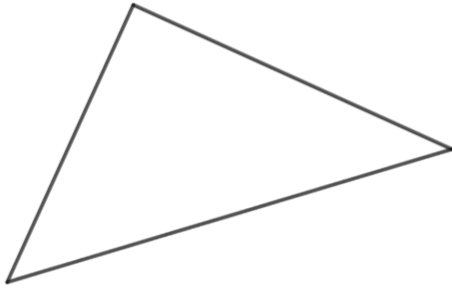
日にち： 月 日

名まえ \_\_\_\_\_

1 つぎの三角形や四角形の名前をいみましょう。

(うすい字はしっかりなぞりましょう。)

①




( 直角三角形 )

②



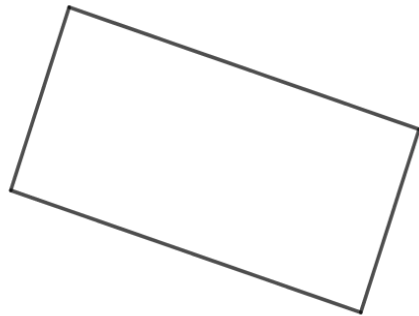
( )

③



( )

④



( )



# 長方形と正方形 9

◎ 長方形かな？正方形かな？

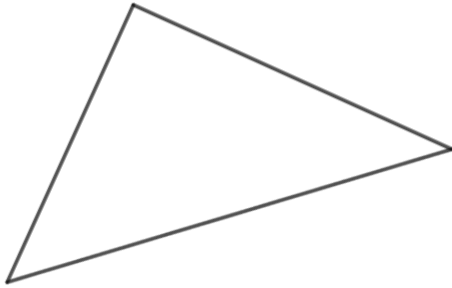
3

日にち： 月 日

名まえ \_\_\_\_\_

1 つぎの三角形や四角形の名前をいみましょう。  
(うすい字はしっかりなぞりましょう。)

①




( 直角三角形 )

②



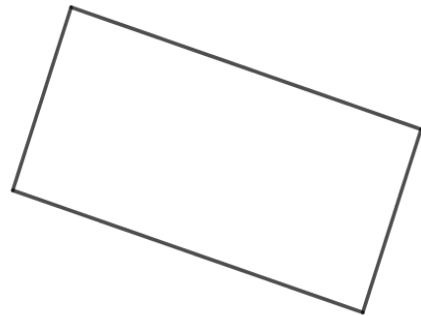
( 長方形 )

③



( 正方形 )

④



( 長方形 )