



長さのたんい 13

● きまった長さの
直線をひく




日にち： 月 日

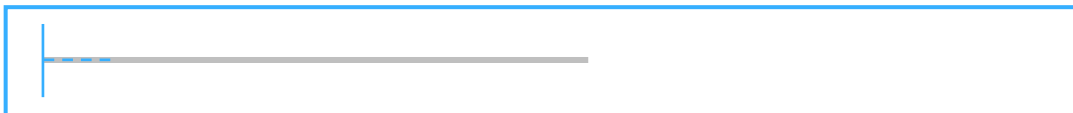
名まえ _____

・ |----- から つぎの ^{なが}長さの ^{ちよくせん}直線を ひきましょう。(うすい^{せん}線は なぞりましょう。)


① 4 cm




② 7 cm 2 mm



③ 5 0 mm



④ 6 4 mm





長さのたんい 13

● きまった長さの
直線をひく




日にち： 月 日

名まえ _____

・ |----- から つぎの ^{なが}長さの ^{ちよくせん}直線を ひきましょう。(うすい線は ^{せん}なぞりましょう。)


① 4 cm



② 7 cm 2 mm



③ 5 0 mm



④ 6 4 mm

