



3けたの数 13

◎ 百のたばのたし算・ひき算

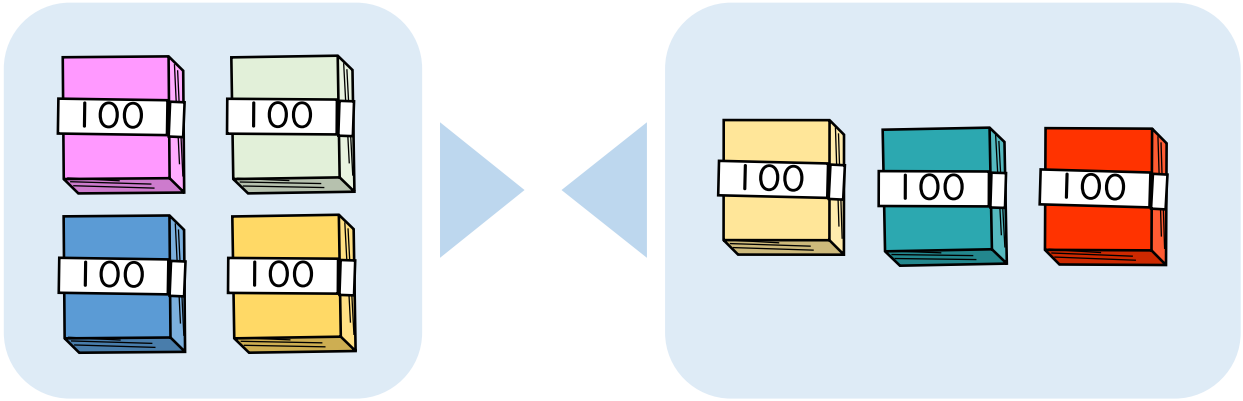


日にち： 月 日

名まえ _____

- ・ 400+300の 答えは いくつですか。

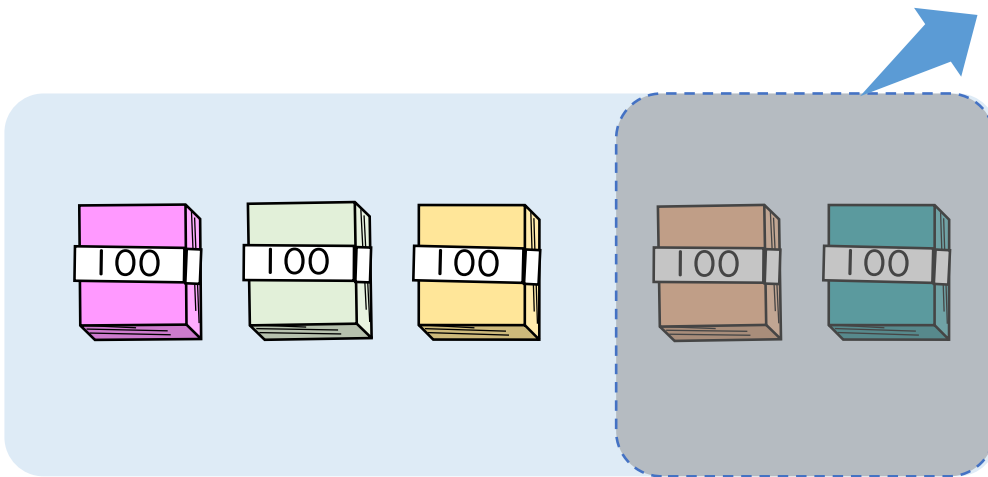
(うすい字はなぞりましょう。)



100のたばが + = で こだから

$$400 + 300 = \boxed{}$$

- ・ 500-200の 答えは いくつですか。



100のたばが - = で こだから

$$500 - 200 = \boxed{}$$





3けたの数 13

◎ 百のたばのたし算・ひき算

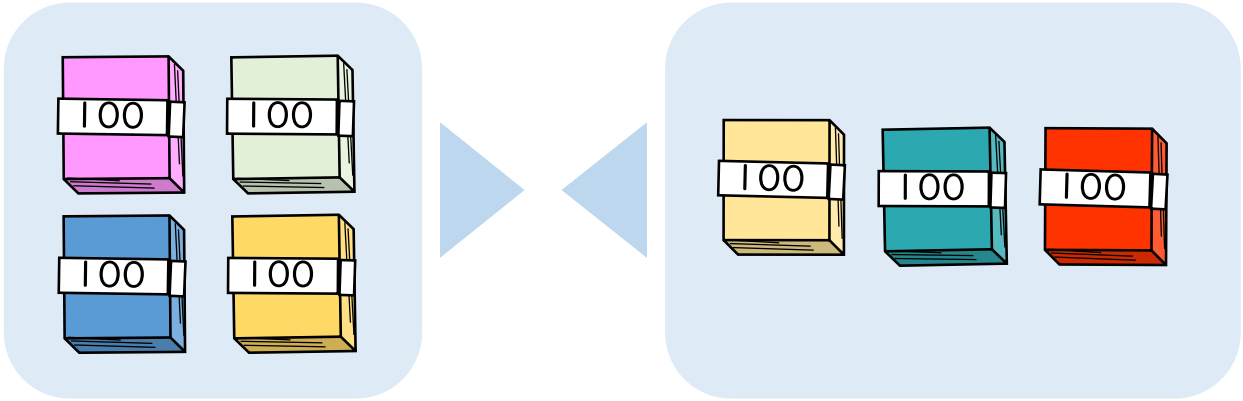


日にち： 月 日

名まえ _____

・ 400+300の 答えは いくつですか。

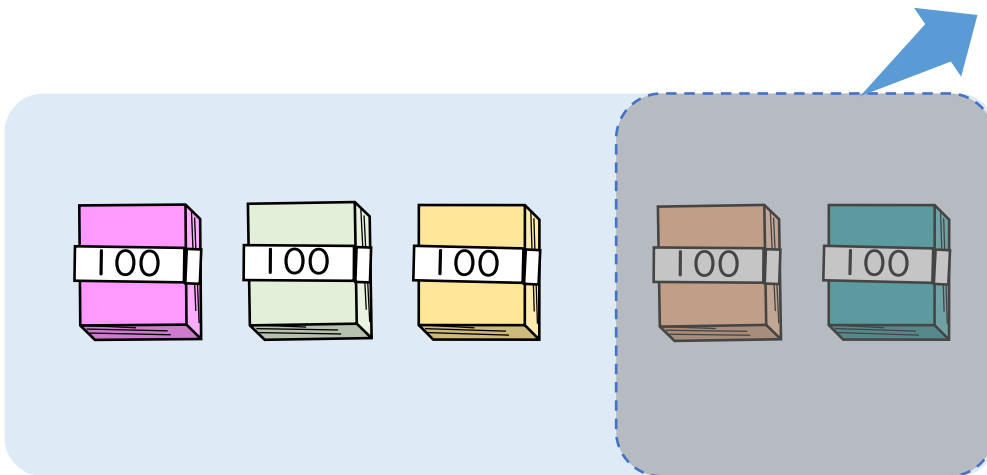
(うすい字はなぞりましょう。)



100のたばが $4 + 3 = 7$ で 7 こだから

$$400 + 300 = 700$$

・ 500-200の 答えは いくつですか。



100のたばが $5 - 2 = 3$ で 3 こだから

$$500 - 200 = 300$$

