



# 長方形と正方形 3

◎ 直角三角形を見つけよう

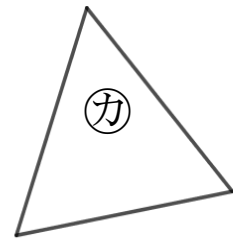
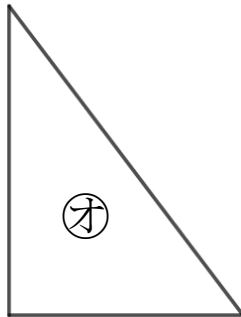
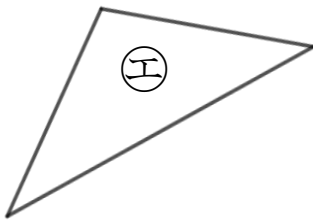
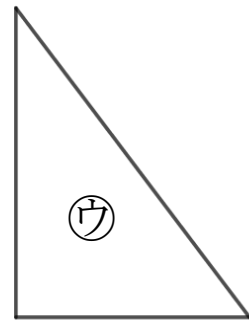
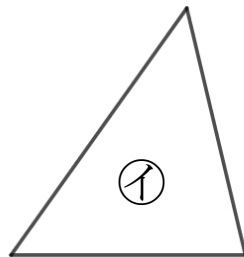
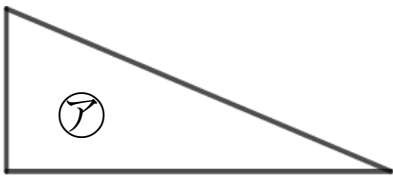


日にち： 月 日

名まえ \_\_\_\_\_

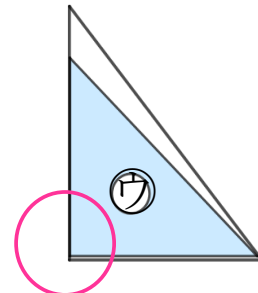
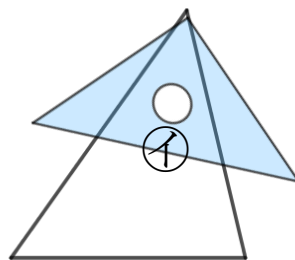
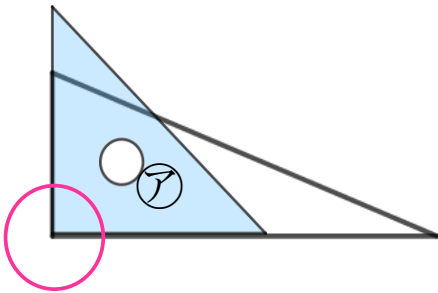
- ・ 直角三角形はどれですか。  
三角じょうぎをつかって、ぜんぶ見つけましょう。

直角のかどがある三角形を  といいます。



三角じょうぎの直角のかどをあててみよう！

ぴったりかさなるかどはあるかな？



答え：

\_\_\_\_\_



# 長方形と正方形 3

# 3

◎ 直角三角形を見つけよう

日にち： 月 日

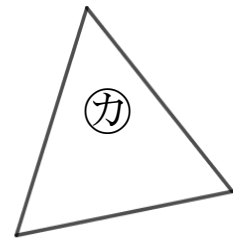
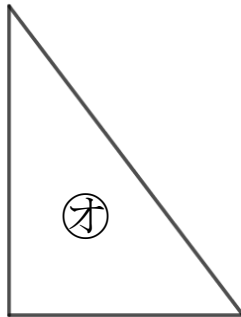
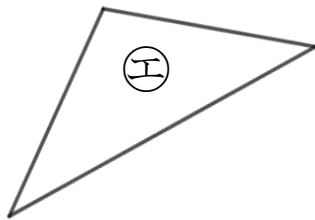
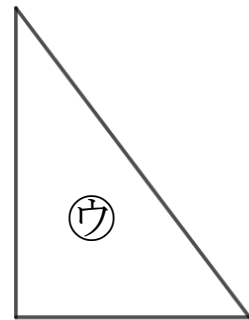
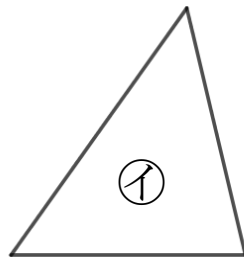
名まえ \_\_\_\_\_

・ 直角三角形はどれですか。

三角じょうぎをつかって、ぜんぶ見つけましょう。

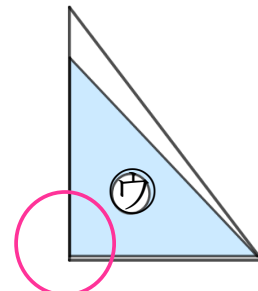
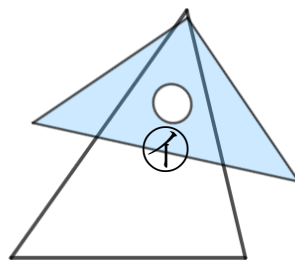
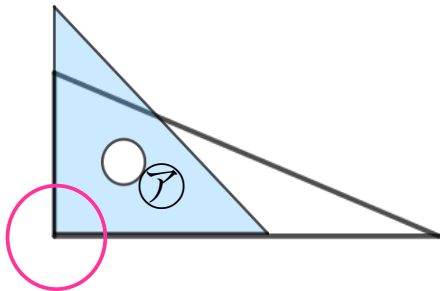
(うすい字はしっかりなぞりましょう。)

直角のかどがある三角形を **直角三角形** といいます。



三角じょうぎの直角のかどをあててみよう！

ぴったりかさなるかどはあるかな？



答え： **ア** , **ウ** , **オ**