



## かけ算 2

◎ 絵を見てかけ算の  
しきを作ろう




日にち：            月            日

名まえ \_\_\_\_\_

- ・ 絵を見て、かけ算のしきをつかって、ぜんぶでいくつか答えましょう。  
(うすい字はなぞりましょう)

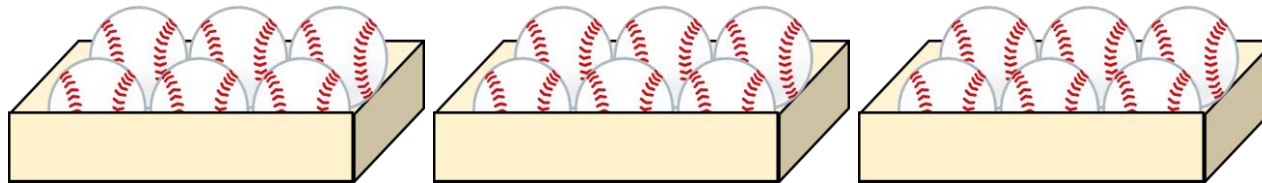
①



しき：  $7 \times 2 =$

答え： \_\_\_\_\_

②



しき：

答え： \_\_\_\_\_





## かけ算 2

◎ 絵を見てかけ算の  
しきを作ろう




日にち：            月            日

名まえ \_\_\_\_\_

- ・ 絵を見て、かけ算のしきをつかって、ぜんぶでいくつか答えましょう。  
(うすい字はなぞりましょう)

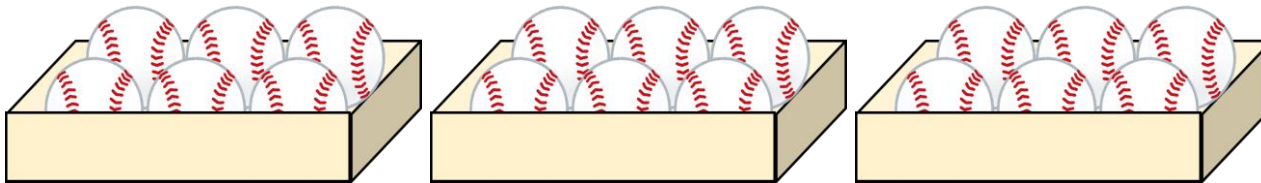
①



しき：  $7 \times 2 = 14$

答え： 14こ

②



しき：  $6 \times 3 = 18$

答え： 18こ

③ 確認 答え



すらすらぷりんと