



分数 2

● 色をぬった部分は何分の一？




日にち： 月 日

名まえ

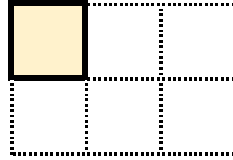
・色をぬったぶんはもとの大きさの何分の一ですか。

(うすい字はなぞろう。)

①




もとの大きさ

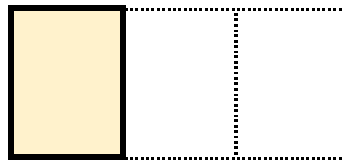


答え： $\frac{1}{6}$

②



もとの大きさ

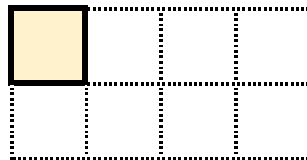


答え： $\frac{1}{3}$

③




もとの大きさ

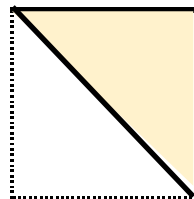


答え： _____

④



もとの大きさ



答え： _____





分数 2

色をぬった部分は何分の一？




日にち： 月 日

名まえ

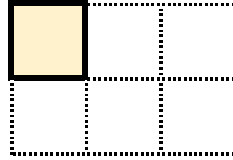
・色をぬったぶんはもとの大きさの何分の一ですか。

(うすい字はなぞろう。)

①



もとの大きさ

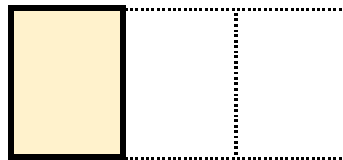


答え： $\frac{1}{6}$

②



もとの大きさ

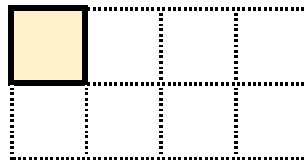


答え： $\frac{1}{3}$

③




もとの大きさ

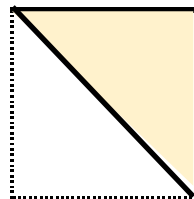


答え： $\frac{1}{8}$

④



もとの大きさ



答え： $\frac{1}{2}$

