



図を使って
考えよう！

● 買った数は何こ？



日にち： 月 日

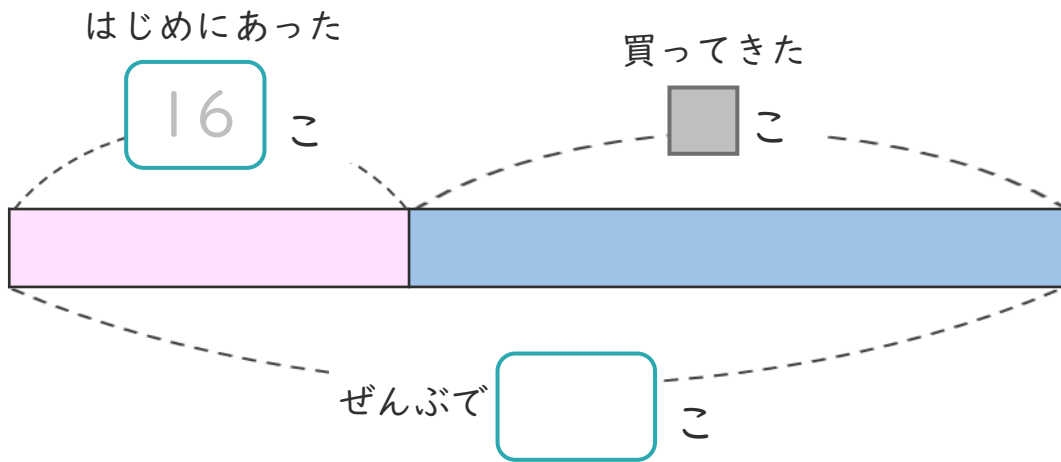
名まえ _____

・ みかんが 16こ あります。

何こか 買って きたので、ぜんぶで 42こ になりました。

(うすい字はなぞりましょう。)

① 下の 図の □ に あう 数 を 書 け ます。




② 買って きた みかん は 何 こ ですか。

しき と 答え を 書 け ます。

しき (- =)

答え ()

<筆算スペース>





図を使って
考えよう！

● 買った数は何こ？



日にち： 月 日

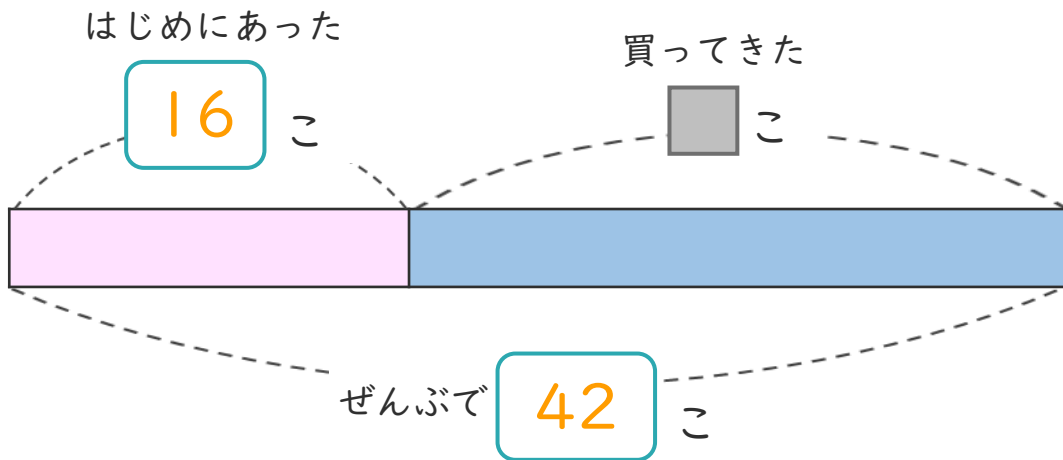
名まえ _____

・ みかんが 16こ あります。

何こか 買って きたので、ぜんぶで 42こ になりました。

(うすい字はなぞりましょう。)

① 下の 図の □ に あう 数 を 書 け ます。



② 買って きた みかん は 何こ ですか。

しき と 答え を 書 け ます。

しき $\left(42 - 16 = 26 \right)$

答え $\left(26 \text{こ} \right)$

<筆算スペース>

