



長方形と正方形 4



◎ 長方形を見つけよう

日にち： 月 日

名まえ _____

・ 長方形はどれですか。

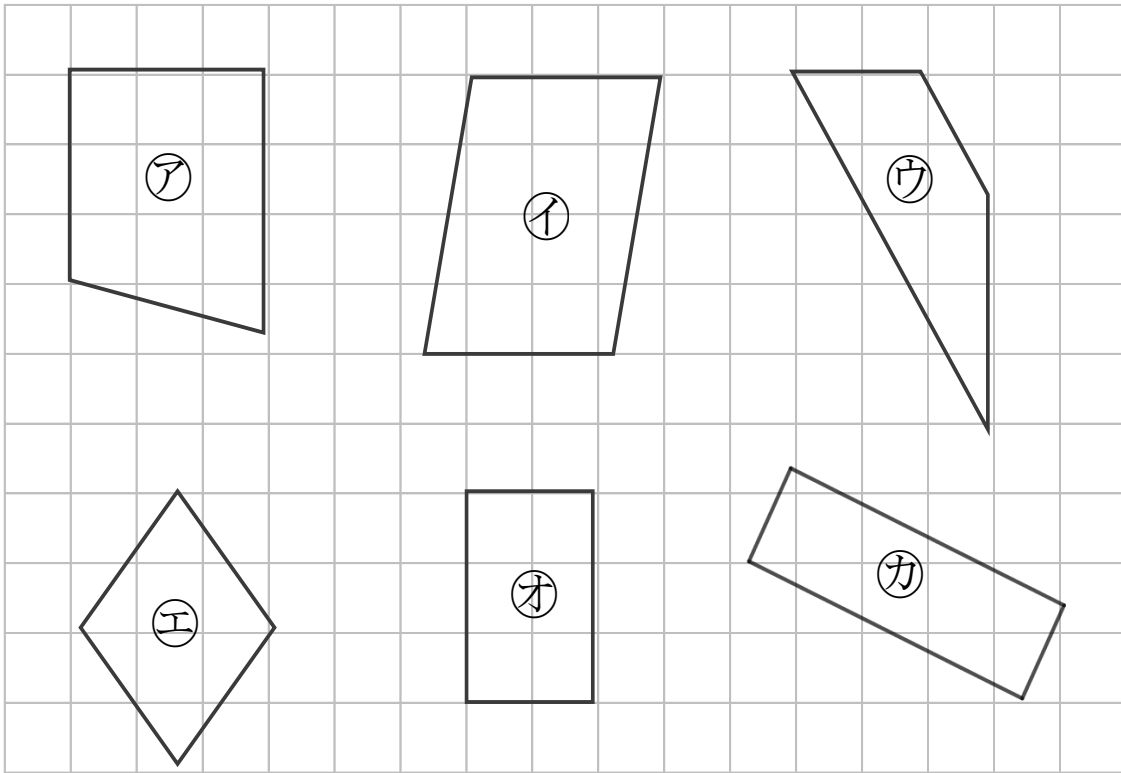
三角じょうぎをつかって、ぜんぶ見つけましょう。

(うすい字はしっかりなぞりましょう。)

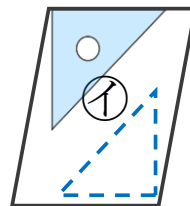
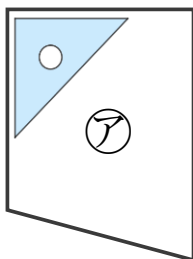
4つのかどがみんな直角になっている四角形を



といいます。



ぜんぶのかどに 三角じょうぎの直角のかどをあててみよう！



答え： ○オ , _____



長方形と正方形 4



◎ 長方形を見つけよう

日にち： 月 日

名まえ _____

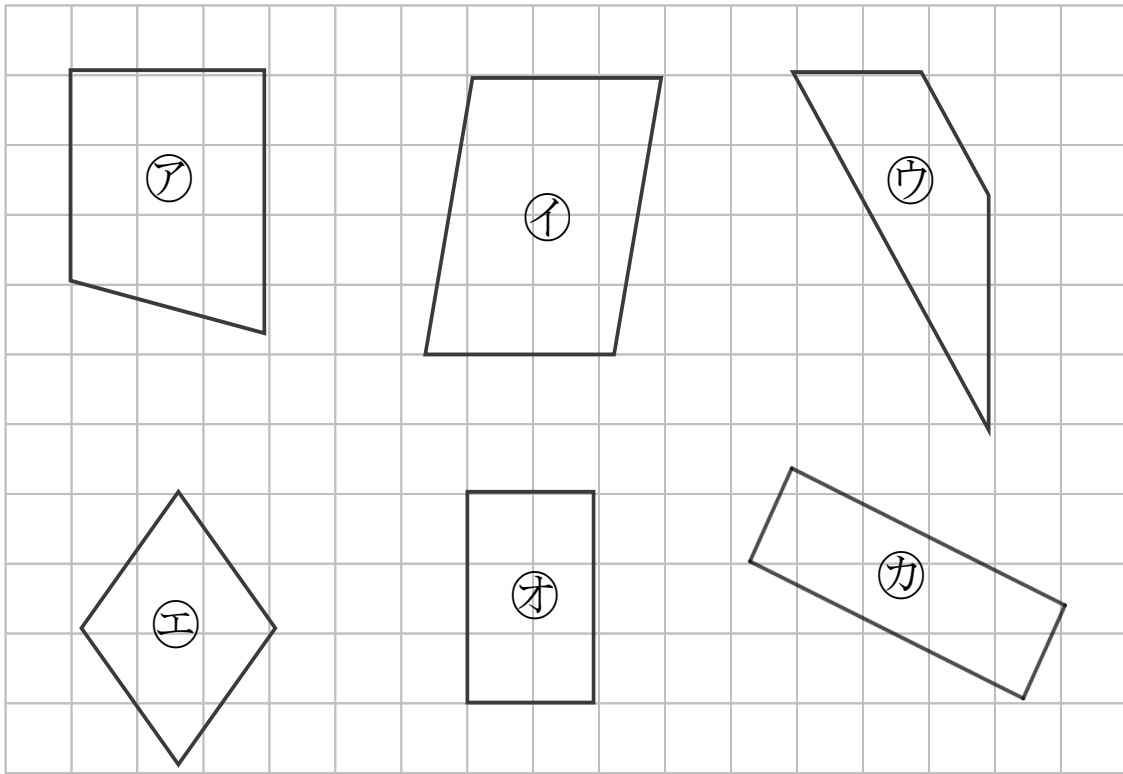
・ 長方形はどれですか。

三角じょうぎをつかって、ぜんぶ見つけましょう。

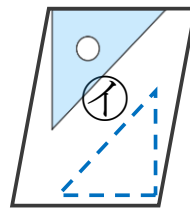
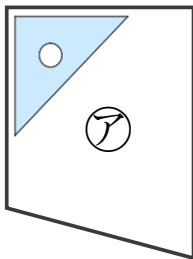
(うすい字はしっかりなぞりましょう。)

4つのかどがみんな直角になっている四角形を

長方形 といいます。



ぜんぶのかどに 三角じょうぎの直角のかどをあててみよう！



答え： オ , カ